
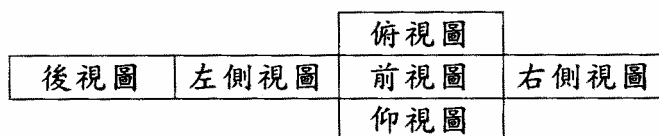


1. (2) 依據中華民國勞工安全衛生法規定，高溫作業勞工每日工作時間不得超過① 5 小時② 6 小時③ 7 小時④ 7.5 小時。
2. (1) 被高溫灼傷送醫前急救的第一個步驟是①用清潔水冷卻、除去局部熱量②剝離衣服③塗抹醬油④塗抹萬金油。
3. (3) 一般良質的水其 pH 值約在① 4 5 ② 5 5.5 ③ 5.8 6.5 ④ 7 8 之間。
4. (3) 下列何者不屬於水污染程度的評量①溶存氧量②生物化學氧需求量③石灰質含量④大腸桿菌數。
5. (4) 目前國內的電源系統頻率為① 50Hz ② 120Hz ③ 100Hz ④ 60Hz。
6. (2) 對於心臟停止跳動的急救，下列何者最有效①口對鼻吹氣人工呼吸法②心臟復甦人工呼吸法③口對口吹氣人工呼吸法④徒手人工呼吸法。
7. (1) 檢查牆上插座是否有電，最適當的方法為①以電壓表量其開路電壓②以電流量表量其短路電流③以歐姆表量其接觸電阻④以瓦特計量所耗之功率。
8. (3) 下列措施，何者不能防止靜電對電子元件之破壞？①桌面鋪導電性桌墊②人員帶接地手環③穿平底膠鞋④使用離子吹風機。
9. (2) 從事電器工作人員，遇有觸電因而受傷失去知覺時，應①等醫生指示方可施行人工呼吸②儘速施行人工呼吸③先予灌入少量開水④潑冷水。
10. (1) 含油性電氣設備著火而電源無切斷時，應可使用①二氧化碳滅火器②泡沫滅火器③濕棉被④水。
11. (3) 使用滅火器應站在①逆風②側風③上風④下風。
12. (4) 紙箱上印有  符號表示①防水紙箱②下雨天不得搬運③內裝雨傘④小心防潮。
13. (1) 對機器設備每天實施的檢查稱為①經常檢查②定期檢查③不定期檢查④臨時檢查。
14. (2) 實施口對口人工呼吸時，施行者先行深呼吸，然後捏住患者的鼻子，將自己肺中的空氣經由口對口吹入患者的肺中，其速度約為每分鐘① 10 次② 15 次③ 20 次④ 30 次。
15. (3) 使用電烙鐵進行焊接工作時，不小心將電烙鐵頭碰觸到手，造成起水泡、紅腫、傷到真皮，這是屬於①第一度灼傷（表皮灼傷）②電灼傷③第二度灼傷（中層灼傷）④第三度灼傷（深度灼傷）。
16. (4) 人體器官對電擊的承受，最易使之致命的是①手②腳③肺④心臟。





17. (1) 電氣設備失火時，應使用下列何種滅火最恰當①二氧化碳②砂③水④氯化鈉。
18. (3) 在工廠安全標示中，代表“危險”之顏色為①黃色②綠色③紅色④白色。
19. (2) 對人體有害之粉塵粒子直徑為多少  $\mu\text{m}$ ？① 0.1 0.5 ② 1 5 ③ 5 10 ④ 10 50。
20. (4) 高溫、高電壓、危險物體等，應漆有①白②綠③黃④紅色的三角警告標示符號表示。
21. (4) 安全鞋應有承受多少公斤的靜止壓力① 500 公斤② 750 公斤③ 1000 公斤④ 1250 公斤。
22. (1) 燃油中含硫量最高的是①重油②柴油③汽油④機油。
23. (4) 從事輻射工作人員，全身之輻射有效等效劑量於一年內不得超過多少毫西弗？① 10 ② 20 ③ 40 ④ 50。
24. (2) 照明之高度與視角以多少度為宜？① 0 ② 30 ③ 45 ④ 60。
25. (3) 高架作業施工架之工作台，設置護欄高度不得低於① 50 公分② 60 公分③ 75 公分④ 100 公分。
26. (2) 我國採用之安全電壓為直流多少① 12 伏特② 24 伏特③ 30 伏特④ 110 伏特。
27. (1) 安全門與作業現場人員的距離不得大於① 35 公尺② 45 公尺③ 50 公尺④ 60 公尺。
28. (4) 使用止血帶止血，必須間隔幾分鐘鬆綁一次，使血液流通① 1 2 分鐘② 4 5 分鐘③ 5 8 分鐘④ 10 15 分鐘。
29. (2) 通常空氣中的含氧量為① 15% ② 21% ③ 40% ④ 80%。
30. (4) 在高溫作業環境中，必須隨時補充①水份②糖份③鹽份④水份與鹽份。

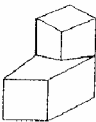
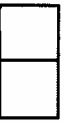

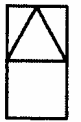
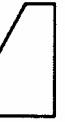
02800 工業電子 丙級 工作項目 02：電子電機識圖

1. (3)  $\phi$  是表示①參考尺寸②錯誤尺寸③弧長尺寸④不按比例尺寸。
2. (1) 下列電阻器之標註何者為正確①  $R_5$ ②  $5_R$ ③  $R^5$ ④  $5^R$ 。
3. (3) 下圖之展開圖為第幾象限投影法之視圖排列位置？①第一②第二③第三④第四。



4. (1) 本國國家標準的簡稱是① CNS ② JIS ③ DIN ④ ISO。

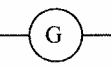
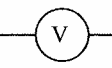
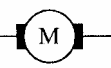

5. (3) 以下四種線條何者是中心線 ①  ②  ③  ④ 。

6. (2)  左圖的右側視圖是 ①  ②  ③  ④ 。

7. (2) 在 CNS 標準中，繪圖之元件外型尺寸常採用 ① 英制 ② 公制 ③ 台制 ④ 德制。

8. (1) 常用 CMOS 系列 IC 之雙排包裝(DIP)的腳距為 ① 0.1 英吋 ② 0.2 英吋 ③ 0.3 英吋 ④ 0.4 英吋。

9. (2) 繼電器接點標示為 N.C. 表示接點 ① 常開 ② 常閉 ③ 空接 ④ 接地。





10. (3) 下列何者為電動機的符號 ①  ②  ③  ④ 。

11. (2) 下圖符號表示 ① 電熱線 ② 熱電偶 ③ 焊接點 ④ 音叉。



12. (4) 下圖符號為 ① 二極體 ② 電容器 ③ 石英晶體 ④ 變容二極體。

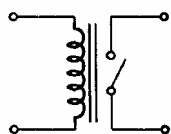


13. (2) 下列何者為發光二極體的符號 ①  ②  ③  ④ 。

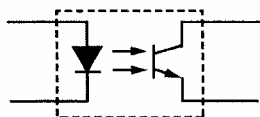
14. (1) 下圖符號為 ① 稽納二極體 ② 整流二極體 ③ 通道二極體 ④ 發光二極體。



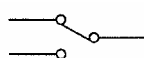
15. (4) 下圖符號為 ① 變壓器 ② 單刀雙擲開關 ③ 電感器 ④ 繼電器。



16. (3) 下圖符號為 ① 橋式整流器 ② 發光二極體 ③ 光耦合器 ④ 光電晶體。







17. (2) 下圖符號為 ① 單極單投(SPST) ② 單極雙投(SPDT) ③ 雙極單投(DPST) ④ 雙極雙投(DPDT)。



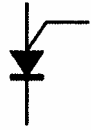
18. (1) 下圖符號為 ① 微動開關 ② 限時動作接點 ③ 限時復歸接點 ④ 按鈕開關。



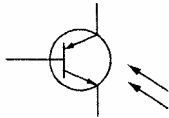
19. (4) 1GHz 表示 ①  $10^6\text{Hz}$  ②  $10^7\text{Hz}$  ③  $10^8\text{Hz}$  ④  $10^9\text{Hz}$ 。

20. (3) 可交、直流兩用的電表，其面板上的表示符號為 ①  ②  ③  ④ 。

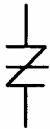
21. (3) 下圖符號為 ① UJT ② SCR ③ PUT ④ GTO。

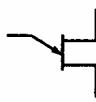
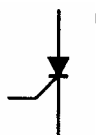




22. (3) 下圖符號為 ① 矽控整流器 ② 受光二極體 ③ 光開流體 ④ 雙向開流體。

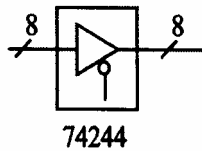


23. (3) 下圖符號為 ① DIAC ② SUS ③ SSS ④ SBS。

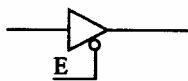






24. (1) 下列何者為 “UJT” 之符號？ ①  ②  ③  ④ 。

25. (4) 下圖所標示之 “8” 為 ① 8 公分 ② 8 英吋 ③ 8 倍尺寸 ④ 8 條資料線。

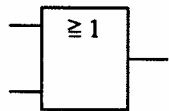


26. (1) 下圖所示之 E 訊號為 ① 低電位致能 ② 反向輸出 ③ 浮接點 ④ 接地點。



27. (4) 在數位邏輯中，反或閘的符號為 ①  ②  ③  ④ 。

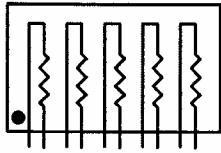
28. (1) 下圖符號為何種邏輯？ ① OR ② AND ③ NAND ④ NOR。



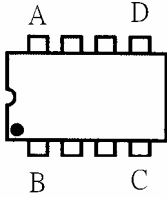
29. (1) 下圖符號表示何種閘？ ① 集極開路輸出 ② 射極開路輸出 ③ 集極閉路輸出 ④ 射極閉路輸出。



30. (2) 下圖符號為① A 型排阻② B 型排阻③ C 型排阻④ D 型排阻。



31. (2) 下圖 DIP IC 頂視圖，第一支接腳位置在① A 腳② B 腳③ C 腳④ D 腳。



32. (2) 下圖符號為① AND GATE ② NOT GATE ③ OR GATE ④ NAND GATE。



33. (4) 國際標準組織簡稱為① ANSI ② CNS ③ DIN ④ ISO。

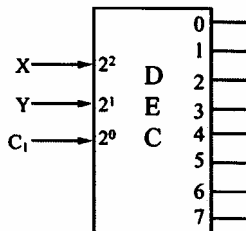
34. (4) 電機電子工程學會簡稱為① FCC ② UL ③ BS ④ IEEE。

35. (3) 下列何者不是應用於電子電機方面的繪圖軟體① ORCAD ② PCAD ③ WORD ④ PROTEL。

36. (3) 所謂的「一令」紙係指全開的紙幾張① 100 ② 250 ③ 500 ④ 1000。

37. (4) 我國國家標準 CNS 規定工業用圖紙，以下何種為公制？① B ② LETTER ③ LEGAL ④ A4。

38. (2) 下圖符號為① 編碼器 IC ② 解碼器 IC ③ 解多工器 IC ④ 多工器 IC。



39. (1) 下圖符號為① 電力配電盤② 電力分電盤③ 電話端子盤④ 電燈分電盤。



40. (2) 下圖符號為① 電鈴② 蜂鳴器③ 指示燈④ 油斷路器。



1. (1) 將電子元件、導線與電子電路板作適當而正確的裝配，應使用①電烙鐵②吸錫器③打火機④熱風槍。
2. (2) 電烙鐵應放置於①防熱橡膠墊上②烙鐵架內③尖嘴鉗上④桌上即可。
3. (3) 斜口鉗與尖嘴鉗配合使用可拿來當成①錘②鑿子③剝線鉗④扳手使用。
4. (4) 尖嘴鉗夾上元件接腳而後焊接之主要目的為①防止手燙傷②防止燒傷相鄰元件③方便④防止高溫損壞元件。
5. (1) 斜口鉗不適合剪粗導線，應改用①鋼絲鉗②尖嘴鉗③剪刀④鯉魚鉗。
6. (3) 使用起子拆裝螺絲時起子與螺絲面要成① $30^\circ$ ② $60^\circ$ ③ $90^\circ$ ④ $120^\circ$ 。
7. (3) 螺絲起子手柄直徑大者，其轉矩①由力量決定②與直徑無關③大④小。
8. (4) 在鋁板上需鑽孔的地方應先用①鐵釘②劃線針③鋼釘④中心沖 在鑽孔中心打點，以方便鑽孔。
9. (1) 在金屬板上劃線，應使用①劃線針②鉛筆③奇異筆④粉筆。
10. (2) 使用鋼鋸進行鋸切工作時①推時用力，拉回時亦用力②推時用力，拉回時不用力③推時不用力，拉回時用力④推時不用力，拉回時亦不用力。
11. (3) 欲使榔頭發揮較大力量，手應握持榔頭之①頭部②中央③末端④兩端。
12. (4) 焊接電子元件(如電晶體)時，電烙鐵通常以①80W以上②50W 70W③30W 50W④20W 30W最適當。
13. (1) 清除銼刀齒上之銼屑，應用何種物質來清理？①鋼刷②毛刷③牙刷④水。
14. (2) 在虎鉗上裝置鉗口罩之用意為①保護虎鉗②保護工作物③美觀④易於夾持。
15. (1) 多芯線使用於PCB板焊接時，剝線後使用前之處理下列何者為宜？①鍍錫②加散熱膏③加焊油④加防鏽膏。
16. (4) 用起子拆螺絲釘時若不易拆下應①用榔頭敲擊再拆②用斜口鉗夾持取下③用電動起子④先加少許潤滑油稍後再拆。
17. (1) 剝單芯導線時應使用何種工具最佳①剝線鉗②美工刀③牙齒④指甲。
18. (2) 烙鐵架上的海棉可清除烙鐵頭上之餘錫，故海棉應加①酒精②水③機油④接點復活劑。
19. (3) 電鑽之夾頭扳手不用時應①用金屬導線夾於電源線上②用金屬導線夾於電鑽頭邊③用非導體線夾於電源線上④用非導體線夾於電鑽頭邊。
20. (4) 測量導線線徑宜用①鋼尺②卡鉗③皮尺④線規。
21. (1) 欲測量漆包線之電阻值時應如何除去漆料比較不傷銅線？①用打火機燒焦再用布拭去②用刀刮③用砂紙磨④用銼刀銼。
22. (2) 剝除電工導線之PVC外皮時應使用①榔頭敲②士林刀③打火機燒④牙齒剝除。

23. (4) 電烙鐵暫時不用時應①隨意放置②放於尖嘴鉗③直接放於工作檯邊④放於烙鐵架上。
24. (4) 下列何者不是手工具選用原則？①選擇適合工作所須的標準工具②選用正確的方法使用工具③選用保持良好狀態的工具④選用價格低廉為主而不須考慮材質。
25. (1) 為避免損傷外殼面板，鎖緊螺絲時應使用何種手工具①套筒扳手②活動扳手③尖嘴鉗④鋼絲鉗。
26. (4) 市電之驗電起子可用來判別① DC 10KV ② DC 3V ③ AC 10KV ④ AC 110V。
27. (3) 調整有感線圈應使用①一字起子②十字起子③無感起子④牙籤。
28. (2) 一般吸錫機(Solder Cleaner)是由幫浦、儲槽、吸錫管、吸錫頭及加熱裝置構成，其吸錫原理為？①高壓吹力②真空吸力③靜電吸力④虹吸管。
29. (1) 斜口鉗配合尖嘴鉗剝線是利用①槓桿原理②拉力③夾持力④扯力剝線。
30. (2) 手工具放置桌面上應①方便即可②排列整齊③隨意擺置④收於抽屜以防失竊。
31. (3) 借他人手工具時應①用丟的②用甩的③親手交接④托他人拋去。
32. (4) 焊接電子元件後，剪除接腳應使用①尖嘴鉗②鋼絲鉗③剝線鉗④斜口鉗。
33. (4) IC 接腳不整齊或新的 IC 要使用時，正確的整腳工具應使用①斜口鉗②尖嘴鉗③鑷子④ IC 整腳器。
34. (3) 下列何者不是工具管理維護的要點？①設置工具保養記錄卡②定期檢查與保養③尖銳刀口不需保護④專人維護管理。
35. (2) 要鎖緊螺帽，應使用下列何種工具最適宜①鯉魚鉗②固定扳手③尖嘴鉗④老虎鉗。
36. (3) 鑽床在使用中需清除切屑時①為避免排屑割傷需戴手套②用手清除，方便即可③立刻關機取出被鑽物，再用刷子清除④用刷子清除。
37. (3) 錫中的助錫劑主要功能為①幫助溫度升高②降低熔點③去除錫接表面之氧化物④加速錫點凝固。
38. (3) PC 板錫接作業中，電烙鐵溫度，下列何者為宜① 150 180 ② 180 200 ③ 230 250 ④ 350 400 。
39. (4) 為防止螺絲振動而鬆脫，下列何種方式較正確①用止洩帶②螺絲鎖緊後予以鐸死③加裝彈簧墊圈④加裝彈簧墊圈前，先套上華司再正確鎖緊。
40. (1) 正常使用鑽床鑽 PCB 時，其檔位應使用①高速檔②低速檔③中速檔④隨意。

1. (3) 電池屬於何種能量之轉換？①光能與電能②熱能與電能③化學能與電能④機械能與電能。
2. (2) 下列電阻器何者可使用於高功率①碳膜電阻器②水泥電阻器③碳素固態電阻器④氧化金屬皮膜電阻器。
3. (2) 紅紅黑金紅的精密電阻值為① 22  $\pm 2\%$  ② 22.0  $\pm 2\%$  ③ 220  $\pm 2\%$  ④ 220.0  $\pm 2\%$ 。
4. (2) 五個色環的精密電阻器其誤差為 $\pm 1\%$ ，應用何種顏色表示誤差①黑②棕③紅④橙。
5. (1) 下列英文何者代表光敏電阻① C<sub>d</sub>S ② LED ③ LCD ④ diode。
6. (1) 麥拉(Mylar)電容器上標示 473K 則其電容量為① 0.047 $\mu$ F ② 0.47 $\mu$ F ③ 4.7 $\mu$ F ④ 47 $\mu$ F。
7. (4) 電容器的電容量單位為①電容②電壓③電流④法拉。
8. (1) 電阻器並聯使用時可①提高電流容量②提高耐電壓值③提高電阻值④減少電流容量。
9. (3) 下列元件何者會產生反電動勢①電阻器②電容器③電感器④二極體。
10. (4) 購買產品其電壓為 AC100V，在國內使用時需裝置①抗流圈②調諧線圈③返馳變壓器④自耦變壓器。
11. (3) 檢波用二極體都使用何種材料製作①矽②砷③鍺④鎵。
12. (4) 何者二極體具有負電阻特性①整流二極體②檢波二極體③發光二極體④透納二極體。
13. (1) 音響裝置之音量控制用可變電阻器一般採用① A 型② B 型③ C 型④ D 型。
14. (2) 大功率電晶體的包裝外殼大都為① B 腳② C 腳③ D 腳④ E 腳。
15. (3) 場效電晶體(FET)是屬於①單極性電流控制②雙極性電流控制③單極性電壓控制④雙極性電壓控制 元件。
16. (3) 發光二極體(LED)導通時順向電壓降約為① 0.3V ② 0.7V ③ 1.6V ④ 5V。
17. (2) 中心抽頭式全波整流電路中，每個二極體之逆向峰值電壓(PIV)，至少應為峰值電壓的① 1 ② 2 ③ 3 ④ 4 倍。
18. (4) 下列元件何者具有電氣隔離作用①二極體②電晶體③場效電晶體④光耦合器。



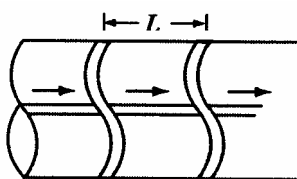
19. (1) 在將電源插頭插入插座之前，應先確定①開關放在 OFF 位置②開關放在 ON 之位置③可不管開關位置隨意均可④依狀況再決定位置。
20. (4) 電容器串聯時可提高①電流容量②電容量③頻率④耐電壓值。
21. (1) 下列何者編號表示高頻用之 PNP 型電晶體① 2SA684 ② 2SB507 ③ 2SC536 ④ 2SD303。
22. (4) 繼電器有兩個輸出接點 N.C. 與 N.O. 各代表①常開與常開②常開與常閉③常閉與常閉④常閉與常開 接點。
23. (4) 一電阻器標示為  $100 \pm 5\%$ ，其電阻值最大可能為① 95 ② 100 ③ 100.5 ④ 105。
24. (3) 數位電路中，常在每個 IC 的電源附近並接一個電容器作為抗濾波干擾之用，其數值約① 1pF ② 10pF ③  $0.1 \mu F$  ④  $1000 \mu F$ 。
25. (3) 下圖以布林(Booleen)代數式表示為①  $F = A \cdot B$  ②  $F = A + B$  ③  $F = A \oplus B$  ④  $F = A \cdot B$ 。







26. (3) 四層印刷電路板(PCB)結構中， $V_{CC}$  和 GND 應在第幾層① 1, 2 層② 1, 4 層③ 2, 3 層④ 3, 4 層。
27. (2) 電阻值 10k 的 k 是代表① 10 的 2 次方② 10 的 3 次方③ 10 的 6 次方④ 10 的 9 次方。
28. (2) 電容值  $200 \mu F$  的  $\mu$  是代表① 10 的負 3 次方② 10 的負 6 次方③ 10 的負 9 次方④ 10 的負 12 次方。
29. (1) 電感值 10mH 的 m 是代表① 10 的負 3 次方② 10 的負 6 次方③ 10 的負 9 次方④ 10 的負 12 次方。
30. (1) 常用的(JIS)UM-4 電池 LR 系列容量為① 750mAh ② 1.5Ah ③ 5Ah ④ 10Ah。

02800 工業電子 丙級 工作項目 05：裝配知識

1. (1) 錫銲焊接時，若助焊劑變黑或銲接表面有氧化膜產生，表示銲接時①溫度過高②溫度太低③表面不潔④助焊劑不良。
2. (4) 下圖為線束十字線，束線打結的間隔 L 要小於① 5mm ② 10mm ③ 15mm ④ 30mm。



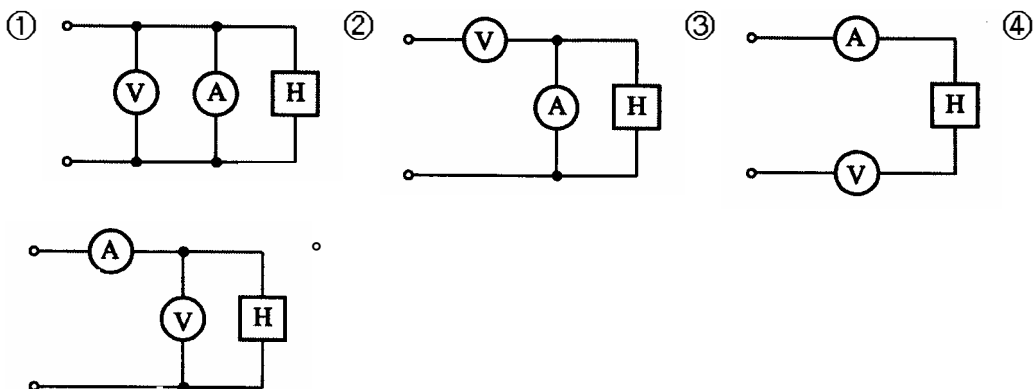
3. (3) PC 板上之 PVC 跳線焊好後①以膠帶貼牢固②以夾線釘釘牢③用高分子聚合膠固定之④不必固定，焊線時穿過元件腳下固定。
4. (4) 某電子元件若標註  $Z_D$ ，為何種元件①整流②發光③透納④稽納二極體。
5. (2) 更換保險絲時，正確方法是①不關閉開關，但於絕緣台上工作②關閉開關來工作③不關閉開關來工作④不關閉開關，但用絕緣手套來工作。
6. (1) 以 IC 腳焊接為例，下列各焊點何者最佳：
  - ① 
  - ② 
  - ③ 
  - ④ 
7. (2) 裝置機電元件時，何者最需使用熱縮套管①低壓用繼電器②電源變壓器③輸出測試端子④ LED 指示燈。
8. (2) 電烙鐵焊接 PC 板的適當溫度約為① 200 以下② 230 250 之間③ 280 左右④ 300 330 。
9. (2) 電子元件焊接時對於下列何者須考慮極性：①陶質電容器②電解電容器③薄膜電容器④雲母電容器。
10. (1) 焊接作業中，使用松香之主要功能為①消除焊點污垢②清除電烙鐵之氧化物③助熔④冷卻。
11. (3) 安裝高功率電晶體時，下列程序何者較正確？①需直接固定於印刷電路板上②以散熱器固定即可③需先塗以散熱膏再與散熱器鎖緊④需與散熱器保持散熱距離。
12. (1) 下列何種電容器儲存年限較短①電解電容器②雲母電容器③陶瓷電容器④鉭質電容器。
13. (3) 元件接腳氧化時①表示該元件已變質，不能使用②可直接使用③需將氧化部份刮掉後再使用④加焊油後即可使用。
14. (2) 多芯導線剝線後，使用前之處理，以下列何種方式較佳？①加松香②加鉍錫③加散熱膏④加絕緣油。
15. (4) AC 電源線部份之接點①為加強散熱，需直接暴露於空氣中②為防止漏電，必須用螺絲固定③必需以束線帶束在一起④必須以熱縮套管絕緣。
16. (4) 繼電器之接點若標示 N.O. 時表示①繼電器未動作時與共接點相通②繼電器動作時與 N.C. 接點相通③繼電器未動作時與 N.C. 接點相通④繼電器動作時與共接點相通。
17. (3) 熱縮套管之正確加熱方式為使用①打火機②電烙鐵③熱風槍④電風扇。
18. (2) 電源濾波用電解電容器會爆炸之原因為①電源變壓器短路②電解電容器極性接反③電源頻率不對④電解電容器耐壓太高。
19. (3) 音頻電路上之共同接地線必需①越長越好②越細越好③越粗越好④越直越好。
20. (4) 下列何種顏色導線使用於較高的電壓①紫色②灰色③白色④紅色。

21. (2) 電路板上接地線一般使用①藍色②黑色③紅色④橙色。
22. (1) 下列線規號碼之導線何者最粗① AWG#0 ② AWG#1 ③ AWG#10 ④ AWG#20。
23. (3) 一般而言，下列何種元件沒有極性限制①二極體②電解質電容器③電阻器④變壓器。
24. (1) 繼電器一般採用下列何種元件來消除逆向脈衝？①二極體②電容器③電阻器④電阻器及電容器串聯。
25. (4) 下列何種材料不可拿來做綁線用①上腊棉線②尼龍繩③ PVC 線④裸銅線。
26. (2) 為防止繼電器接點產生之火花，一般均在接點兩端並接①電阻器②電容器③二極體④電感器。
27. (2) 在一般陶瓷電容器或積層電容器標示 104K，其電容量為①  $1\ \mu\text{F}$  ②  $0.1\ \mu\text{F}$  ③  $0.01\ \mu\text{F}$  ④  $10.4\ \mu\text{F}$ 。
28. (4) 目前台灣超高壓電力系統最高電壓為多少？① 1.1kV ② 2.5kV ③ 161kV ④ 345kV。
29. (4) 以數學式運算求得需 0.65W 之電阻器時，宜選用下列何種功率之電阻器最佳？① 1/8W ② 1/4W ③ 1/2W ④ 1W。
30. (2) 下列何種電阻器較適合使用於低雜音電路①碳質②金屬皮膜③碳膜④線繞。
31. (4) 下列何者熱縮不用兩層熱縮套管？①電源開關②保險絲座③電源指示燈④電源變壓器。
32. (3) TO-3 型電晶體裝置於電路板上時，其接腳應留高度為①平貼電路板上② 1mm 以下③留 3 5mm 高度④留 8 10mm 高度。
33. (3) 配線端點焊接時，端點與導線 PVC 絕緣皮之間距，應①不得有任何間距②保持在 1mm 以下③保持在 0.5mm 2mm ④約為導線線徑的四倍。
34. (1) 下列有關束線之敘述，何者不正確？①配線完成後，有五條（含）以下的導線不必整理成線束②束線時必須選擇正確規格的束線帶③線束之導線應保持平行，不可交插或纏繞④線束轉彎前後，應予以束線固定。
35. (1) 束線帶必須束緊，且多餘尾端應予以剪除，殘留尾端應①在 1mm 以內② 5 7mm ③ 8 10mm ④ 10mm 以上。
36. (2) 焊接 IC 座時，下列何者較正確？①全部接腳剪除再焊接②直接焊接不須彎腳及剪腳③全部彎腳後焊接④焊接完畢再將接腳彎曲。
37. (2) 下列有關電子元件裝配的敘述，何者不正確？①元件裝配注意不與相鄰元件短路②發熱元件不需架高③元件裝置的位置及方向要注意其標示數據必須以方便目視為原則④元件裝置於電路板時，零件應由低至高依序安裝。

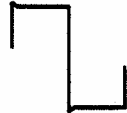
38. (1) 螺絲固定時，下列敘述何者不正確？①已攻牙的螺絲孔，鎖定時需加螺帽②螺絲的長度要超出螺帽③螺絲帽、鎖定墊圈、平墊圈的順序要對④非金屬材料的兩邊都要加平墊圈。
39. (4) PCB 佈線(Layout)時，下列那一種線之銅箔最寬最粗？①位址線②資料線③ clock 線④電源線。
40. (1) 電腦輔助設計之英文縮寫是① CAD ② CAI ③ CAM ④ CAE。

02800 工業電子 丙級 工作項目 06：電子儀表使用知識

1. (2) 三用電表靈敏度定義為①滿刻度偏轉電流②歐姆 / 伏特③伏特 / 歐姆④滿刻度電壓值。
2. (4) 三用電表之直流電壓檔若有 3V, 12V, 30V, 120V, 則那一檔之輸入阻抗最高① 3V ② 12V ③ 30V ④ 120V。
3. (2) 以三用電表歐姆檔測量電容器時，若電容量愈大則電表指針在測試棒接觸瞬間的偏轉量①愈小②愈大③不動④固定。
4. (2) 電表上如註明“CLASS 1.5”，係指該電表①於 1.5 Sec 內可指出滿刻度②準確度為滿刻度之 $\pm 1.5\%$ ③精密度為 1.5 刻度內④壽命為 1.5 年。
5. (3) 3 1/2 位數(DIGITS)的數位電表，可顯示出的最大讀值為① 1000 ② 3000 ③ 1999 ④ 3999。
6. (3) 某三用電表 DCV 的靈敏度為 20K /V，其範圍選擇開關置於 DCV1000V 位置，則電表的總內阻為① 1K ② 20K ③ 20M ④ 21M。
7. (4) 測定電熱器(H)之消耗電力時，電壓表(V)及電流表(A)之正確接線為：



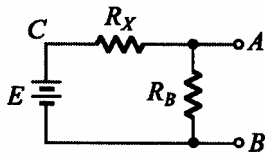
8. (1) 三用電表內部電池沒電時，不可以測量①電阻值②電壓值③電流值④dB 值。
9. (1) 儀器使用時若電壓衰減 20dB 代表衰減① 10 倍② 20 倍③ 40 倍④ 100 倍。

10. (4) 示波器 “ TRIG. Level ” 控制鈕是控制其①頻率②焦距③振幅④觸發準位。
11. (3) 示波器之靈敏度由那一電路決定?①同步②水平放大③垂直放大④觸發電路。
12. (3) 以示波器之 X-Y mode 來觀察兩訊號的相位差，所得圖形為圓形，則兩訊號之相位差為：①  $30^\circ$ ②  $60^\circ$ ③  $90^\circ$ ④  $180^\circ$ 。
13. (4) 在示波器中，若垂直偏向板加正弦波訊號，水平偏向板不加訊號，則螢光幕出現之圖形應為①一水平線②一點③正弦波④垂直線。
14. (2) 函數波產生器之 VCF 輸入，可以控制輸出成為① AM ② FM ③ 脈波④ 三角波 波形。
15. (2) 頻率計數器之時基(Time Base)若採用 10mS，則量測外加信號之頻率得到最高解析度為① 10Hz ② 100Hz ③ 1KHz ④ 10KHz。
16. (1) 若在示波器上，垂直偏向加正弦波，水平偏向加鋸齒波，且鋸齒波的頻率為正弦波的兩倍時，可顯示①半週的正弦波②單週的正弦波③雙週的正弦波④雙週的鋸齒波。
17. (1) 將示波器用 10 : 1 測試棒接示波器之校準信號，顯示下圖波形時則表示①過度補償②補償不足③正確的補償④無補償。
- 
18. (2) 函數波產生器之輸出阻抗為 50  $\Omega$ ，若其輸出衰減網路選擇衰減 20dB，則其衰減後之輸出阻抗為① 5  $\Omega$  ② 50  $\Omega$  ③ 500  $\Omega$  ④ 1000  $\Omega$ 。
19. (2) 若示波器測棒為 1 : 1，電壓檔撥在 1V/DIV 位置，其信號之峰對峰共 4 DIV，則其  $V_{pp}$  值為① 1V ② 4V ③ 10V ④ 40V。
20. (4) 儀表連續使用一段時間後產生很小之偏移，則此儀表①靈敏度高②準確度高③解析度高④穩定度高。
21. (1) 有一穩壓直流電源供應器，其輸出電壓為 0 ~ 30V (可調)，輸出電流為 0 ~ 3A (可調)，並具有 C.C. (限電流)，C.V. (定電壓) 之功能。另有一電路需使用 15V 電源，工作電流約為 150mA。若以此電源供應器供給該電路電源，則其 C.C. (限電流) 應設定為多少較為理想① 160mA ② 1A ③ 1.6A ④ 3A。
22. (4) 數位電表中，以下列何種方法製造之 A/D 轉換器具有精確度高、在額定電壓範圍內很平穩、不受元件特性漂移影響、可自動消除電源雜訊等優點？①電壓 / 頻率法②單斜波法③連續漸近法④雙斜率法。
23. (2) 若將同步示波器之觸發耦合開關(trigger coupling)撥至 HF REJ 之位置其作用是①只讓高頻通過②只讓低頻通過③只讓直流信號通過④只讓交流信號通過。

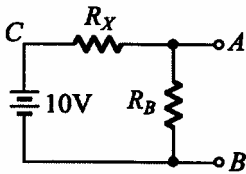
24. (3) 示波器選擇單掃描(single sweep)位置時，不具有那項功能①可避免波形重疊顯示出來②一次只產生一個鋸齒波③可顯示波形任意點之部份波形④適用於不規則波形之量測。
25. (1) 示波器使用外部同步信號來進行同步控制時 SYNC 開關應置於① EXT ② + ③ - ④ LINE 之位置。
26. (1) 4 1/2 位數值式電壓表 20V 測試範圍之解析度為多少① 1mV ② 100  $\mu$ V ③ 10  $\mu$ V ④ 1  $\mu$ V。
27. (3) Q 表可來測量元件之①電路的漏電量②電晶體之 hfe ③電感量及線圈 Q 值④電容器之容量。
28. (2) 一般音頻信號產生器內之振盪器，通常為①哈特萊振盪器②韋恩電橋振盪器③ RC 相移振盪器④考畢子振盪器。
29. (3) 下列何種儀表較合適用來測量銅線之電阻①惠斯登電橋②柯勞許電橋③凱爾文電橋④高阻計。
30. (2) 以示波器量測 60Hz 以下之輸入信號，輸入模式宜採用① AC 耦合② DC 耦合③ LF-REJ ④ HF-REJ。

02800 工業電子 丙級 工作項目 07：測試知識

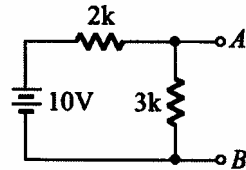
1. (3) 發現儀器之保險絲燒毀時應更換①較高容量之保險絲②較低容量之保險絲③相同容量之保險絲④銅絲。
2. (2) 不正確使用儀表所讀取的數值偏差稱為①系統誤差②人為誤差③隨機誤差④散亂誤差。
3. (2) 以指針式三用電表量測 2PF 的電容器，則電表偏轉量①很大②不動③很小④一半。
4. (2) 指針式三用電表中，零歐姆調整鈕可用於補償①溫度變化②電池老化③指針硬化④濕度變化。
5. (1) 以指針式三用電表量測電壓時指針偏轉愈大，誤差愈①小②大③不變④不一定。
6. (1) 指針式三用電表表頭為直流電流表，通常以下列何種型式為主？①永磁動圈式②動鐵式③整流式④感應式。
7. (2) 使用指針式三用電表量測下圖 A-B 間電壓時，黑棒應置於① A 點② B 點③ C 點④任意點。



8. (2) 下圖若 A-B 間電壓為 1V，則  $R_X/R_B$  應等於 ① 10 ② 9 ③ 8 ④ 7。

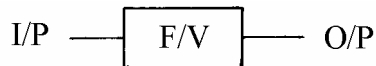


9. (1) 下圖若 3k 開路，則 A-B 間電壓為 ① 10V ② 6V ③ 4V ④ 0V。

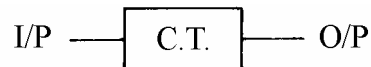


10. (3) 若裝置一電源電路，輸出使用穩壓 IC 編號 7815，欲測量輸出電壓時三用電表應置於何檔 ① DC12V ② AC12V ③ DC30V ④ AC30V。

11. (4) 下圖 O/P 與 I/P 之關係為 ①  $F \propto V$  ②  $F \propto I$  ③  $I \propto F$  ④  $V \propto F$ 。



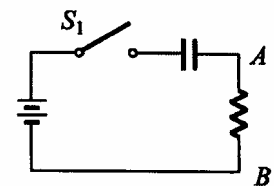
12. (2) 下圖 O/P 與 I/P 之關係為 ①  $I \propto V$  ②  $V \propto I$  ③  $F \propto I$  ④  $I \propto F$ 。



13. (3) 以三用電表量得 AC110V，其電壓之峰對峰值為 ① 110V ② 220V ③ 310V ④ 410V。

14. (4) 電表上反射鏡是用來 ① 增加美觀 ② 增加刻度的清晰 ③ 夜晚也能看得見 ④ 防止視覺誤差。

15. (1) 下圖所示在 S1 閉合後瞬間以示波器量測 A-B 間電位之變化 ① 先升高後下降 ② 先下降後升高 ③ 沒有變化 ④ 高低任意變化。



16. (3) 熱敏電阻經常作為控制元件，安裝時應 ① 貼緊印刷電路板 ② 遠離控制點 ③ 靠近控制點 ④ 隨意擺置。

17. (1) 一般交流電壓表所顯示之數值為 ① 有效值 ② 峰對峰值 ③ 平均值 ④ 最大值。

18. (3) 若示波器所顯示波形要外加信號使其同步時，則示波器同步選擇開關應置於 ① +INT ② -INT ③ EXT ④ LINE。

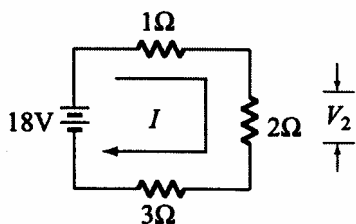
19. (4) 要增加示波器上波形之寬度，應調整那一個鈕① FOCUS ② TRIGGER ③ VOLT/DIV ④ TIME/DIV。
20. (3) 示波器探測棒標示 10 : 1，若螢光幕上顯示為 2V，則實際測得電壓峰值為① 2V ② 11V ③ 20V ④ 200V。
21. (4) 我國在標示合格之電子產品規格時，標示之國家標準為何？① CSA ② JIS ③ DIN ④ CNS。
22. (3) 一般音頻信號的頻率範圍為① 100Hz 1kHz ② 1kHz 10kHz ③ 20Hz 20kHz ④ 20kHz 50kHz。
23. (4) 常用之函數波產生器無法輸出下列何種波形① 正弦波② 三角波③ 方波 ④ 非週期性之數位信號波形。
24. (4) 絕緣測量應使用何種儀器為佳① 三用電表② Q 表③ 數字式三用電表④ 絕緣電表。
25. (2) 若一電流表滿刻度電流  $I_f = 1\text{mA}$ ，表頭內阻  $R_{in} = 1\text{k}$ ，若用來測量 10V 的直流電壓，應串聯的倍率電阻  $R_s$  為① 0.9k ② 9k ③ 99k ④ 999k。
26. (1) 惠斯登電橋(Wheatstone Bridge)是屬於何種方式測量之儀表？① 比較測量② 絕對測量③ 直接測量④ 間接測量。
27. (3) 4 1/2 位數之數位式三用電表，其最大顯示值為① 1999 ② 3999 ③ 19999 ④ 39999。
28. (3) 示波器上之校準電壓其輸出波形通常為① 正弦波② 三角波③ 方波④ 鋸齒波。
29. (4) 一般數字式三用電表 AC 檔所測得之數值是指被測正弦波信號之① 最大值② 峰值③ 峰對峰值④ 均方根(R.M.S)值。
30. (4) 欲在示波器上觀測電晶體共射極輸出特性曲線，則輸入至電晶體基極之波形為① 正弦波② 方波③ 三角波④ 階梯波。

02800 工業電子 丙級 工作項目 08：電工學

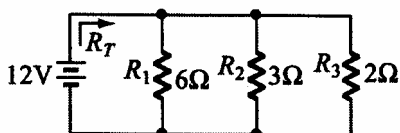
1. (3) 電阻與導線的截面積① 平方成正比② 成正比③ 成反比④ 無關。
2. (2) 使用電容器當濾波器時，負載取用電流愈大，漣波愈① 小② 大③ 不變 ④ 不一定。
3. (3) 有一電容器標示為 103J，則其電容值為① 103pF ② 0.001  $\mu\text{F}$  ③ 0.01  $\mu\text{F}$  ④ 0.103  $\mu\text{F}$ 。



4. (2) 下圖電路所示， $V_2$ 的電壓降應為① 9V ② 6V ③ 3V ④ 2V。



5. (1) 下圖電路所示，總電阻  $R_T$  應為① 1 ② 1.5 ③ 2 ④ 3 。

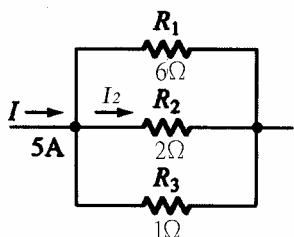


6. (4) 兩電感串聯考慮互感時總電量為

①  $L_1 + L_2 \pm M$  ②  $M\sqrt{L_1 + L_2}$  ③  $\frac{M}{\sqrt{L_1 + L_2}}$  ④  $L_1 + L_2 \pm 2M$  。

7. (3) 三個電阻器為  $10\ \Omega$ 、0.5W； $10\ \Omega$ 、0.25W； $10\ \Omega$ 、1W 串聯時，其所容許之最大瓦特數為① 3W ② 3/2W ③ 3/4W ④ 7/4W。

8. (2) 下圖所示， $I_2$ 之電流應為① 1A ② 1.5A ③ 2A ④ 3A。



9. (1) 計算戴維寧等效電阻時，必須將電壓源①短路②開路③依電路而定④依電壓值而定。

10. (4) 線性電路中，任意兩端點間之網路可用一等效電流源及並聯一等效電阻取代之，稱為①戴維寧定理②克希荷夫定律③密爾門定理④諾頓定理。

11. (1) 各邊電阻為 3 的  $\Delta$  型網路化成 Y 型網路，其各支臂電阻應為① 1 ② 2 ③ 3 ④ 4 。

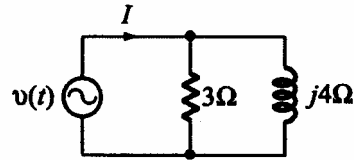
12. (4) 一交流電路中， $v(t) = 30 \cos(200t + 15^\circ)$  伏特， $i(t) = 0.5 \cos(200t + 75^\circ)$  安培，則此電路之功率因數為① 0.886 ②  $1/\sqrt{2}$  ③  $\sqrt{3}/2$  ④ 0.5。

13. (4) RLC 並聯電路其諧振頻率為①  $\frac{1}{2\pi\sqrt{LRC}}$  ②  $\frac{1}{2\pi RC}$  ③  $\frac{1}{2\pi\sqrt{RC}}$  ④

$$\frac{1}{2\pi\sqrt{LC}} 。$$

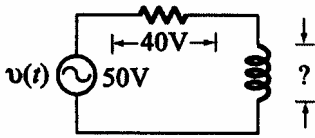
14. (1) 有一負載的電壓和電流，分別是  $v(t) = 10 \sin(\omega t + 75^\circ)$  伏特， $i(t) = 2 \sin(\omega t + 15^\circ)$  安培，則供給此負載的平均功率為① 5W ② 10W ③ 15W ④ 20W。

15. (3) 下圖  $v(t) = 12\sqrt{2} \cos t$  伏特則其總電流之有效值  $I_{rms}$  為① 1A ② 2A ③ 5A ④ 7A。



16. (4) RLC 並聯電路產生諧振時① 阻抗最小 ② 呈現電感性 ③ 呈現電容性 ④  $X_L = X_C$ 。

17. (3) 下圖電感器兩端之電壓為① 10V ② 20V ③ 30V ④ 50V。



18. (3) 設  $i(t) = 300\sin(377t - 30^\circ)$  則此電流  $i(t)$  的頻率為① 35Hz ② 50Hz ③ 60Hz ④ 75Hz。

19. (4)  $5 \angle 53^\circ$  之共軛複數為①  $-5 \angle 53^\circ$  ②  $-5 \angle -53^\circ$  ③  $5 \angle 53^\circ$  ④  $5 \angle -53^\circ$ 。

20. (4) 已知一阻抗  $Z = 3 \angle 30^\circ$  歐姆，若其電壓為  $v = 12 \angle -30^\circ$ ，則其電流  $i$  等於①  $4 \angle 30^\circ$  A ②  $4 \angle -30^\circ$  A ③  $36 \angle 0^\circ$  A ④  $4 \angle -60^\circ$  A。

21. (4) 將極座標  $6\sqrt{2} \angle 135^\circ$  換為直角座標得①  $6 + j6$  ②  $6 - j6$  ③  $-6 - j6$  ④  $-6 + j6$ 。

22. (3) 正弦波經全波整流後，其負載電流有效值為峰值的①  $1/2$  ②  $1/\sqrt{2}$  ③  $\sqrt{2}/2$  ④  $2/\sqrt{2}$  倍。

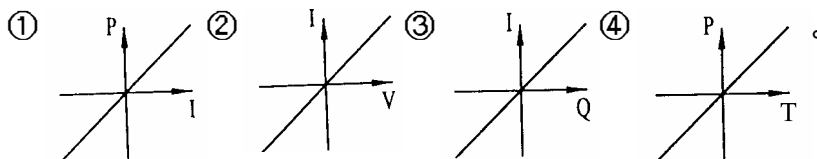
23. (4) 若角頻率  $\omega = 10000$  徑/秒，則  $10 \mu F$  電容器的阻抗為① 10 ② 50 ③  $j10$  ④  $-j10$ 。

24. (4) 已知電壓源  $v = 10 \angle 0^\circ$  伏特，內阻  $z = 5 \angle 30^\circ$  則將此電壓源換成等效電流源後， $i$  等於①  $-2 \angle 30^\circ$  A ②  $-2 \angle -30^\circ$  A ③  $50 \angle 30^\circ$  ④  $2 \angle -30^\circ$  A。

25. (4) 電壓源  $v = 40 \angle 0^\circ$  伏特，其內阻  $Z = 10 + j10$ ，供給一負載，則該負載阻抗為若干時可得到最大功率？①  $10 + j10$  ②  $-10 - j10$  ③  $-10 + j10$  ④  $10 - j10$ 。

26. (4) 在交流電路中感抗  $Z_L$  應為①  $L/2f$  ②  $1/2fL$  ③  $2f/L$  ④  $2fL$ 。

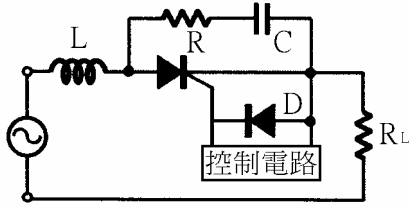
27. (2) 下圖何者是線性電阻器的特性曲線？



28. (3) milli 安培是① 十分之一安培 ② 百分之一安培 ③ 千分之一安培 ④ 萬分之一安培。

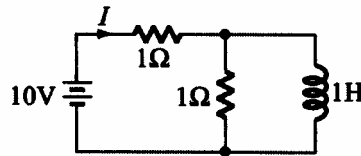
29. (3) pico 法拉是 ①  $10^{-6}$  法拉 ②  $10^{-9}$  法拉 ③  $10^{-12}$  法拉 ④  $10^{-15}$  法拉。

30. (1) 下圖中 L 為 ① 抗流線圈 ② 抗壓線圈 ③ 音頻線圈 ④ 高週線圈。



31. (4) 變壓器鐵芯使用疊成薄矽鋼片，其目的在於減少 ① 銅損失 ② 機械損失 ③ 磁滯損失 ④ 渦流損失。

32. (2) 下圖之電路，已達穩定狀態，則由電壓源所供給的電流(I)約等於 ① 5A ② 10A ③ 0A ④ 20A。



33. (1) RLC 串聯諧振電路中，下列敘述何者錯誤？ ① 諧振頻率與電阻有關 ② 諧振頻率與電感有關 ③ 諧振頻率與電容有關 ④ 感抗等於容抗。

34. (1) 電路頻率降低時，其電容抗 ① 增大 ② 不變 ③ 減少 ④ 不一定。

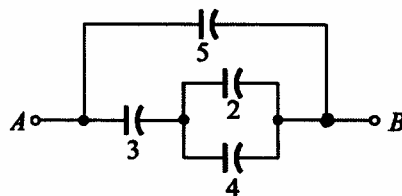
35. (4) 一電阻器標明為  $100 \pm 10\%$ ，其電阻值最大時可能為 ① 90 ② 100 ③ 100.1 ④ 110。

36. (1) 相同的電容器 n 個串聯時，其電容量為並聯時之 ①  $1/n^2$  ②  $1/n$  ③ n ④  $n^2$  倍。

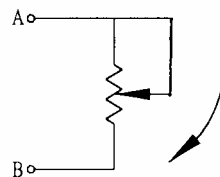
37. (3) 當電解電容器串聯使用時，通常各並聯一個電阻器，此電阻器的作用為 ① 降低阻抗 ② 直流分路 ③ 平衡電容器分壓 ④ 平衡相角。

38. (1) 理想的電感器，當加上電壓的瞬間，其流過的電流為 ① 零 ② 無限大 ③ 不定值 ④ 由大變小。

39. (3) 下圖各電容器之單位為  $\mu F$ ，則 A、B 間總電容量為 ①  $3 \mu F$  ②  $5 \mu F$  ③  $7 \mu F$  ④  $65/18 \mu F$ 。

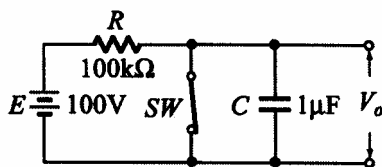


40. (2) 下圖順時鐘（向下）調整可變電阻 A、B 之間的電阻值 ① 愈來愈大 ② 愈來愈小 ③ 不變 ④ 先小後大。

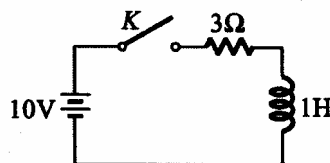


41. (2) 若將 10V 電壓加至一個電阻器 R 上，而此電阻器的色碼依次為棕、黑、紅、金，則流過 R 之電流約為 ① 5mA ② 10mA ③ 50mA ④ 100mA。

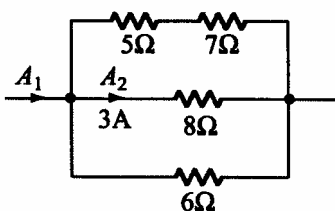
42. (4) 某一電阻兩端加上 100V 之電壓後，消耗 250W 之功率，則此電阻值為① 0.4 歐姆② 2.5 歐姆③ 4 歐姆④ 40 歐姆。
43. (2) 下列何者為封閉的曲線①電力場線②磁力線③熱輻射線④動力線。
44. (3) 下圖電路，當 SW 斷路後 0.1sec 時，電容器兩端電壓為① 10V ② 36V ③ 63V ④ 90V。



45. (3) 下圖開關 K 於  $t = 0$  閉合，經無限長之時間後，則電感兩端之電壓為① 2.5V ② 10V ③ 0V ④ 3V。

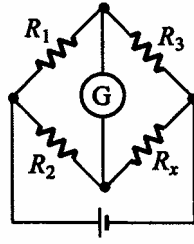


46. (1) RLC 串聯諧振時迴路之①電流最大②阻抗最高③各元件端電壓最低④各元件電流最小。
47. (2) 在 RLC 串聯電路中  $R = 20$ 、 $L = 0.3H$ 、 $C = 20 \mu F$ ，則諧振頻率  $f_r =$  ① 85Hz ② 65Hz ③ 45Hz ④ 30Hz。
48. (1) RLC 電路中，僅有①電阻器②電感器③電容器④ RLC 消耗功率。
49. (1) 有一電路電壓  $v(t) = 100\sin(\omega t + 60^\circ)$ ，電流  $i(t) = 20\sin(\omega t + 60^\circ)$ ，則此電路可視為①電阻器②電感器③電容器④線圈。
50. (2) 單位時間內自導體任一截面流過之電量稱為電流強度，其單位(MKS 制)為①庫倫②安培③伏特④瓦特。
51. (1) 電導為①電阻之倒數②電感之倒數③導體之電荷單位④磁通量單位。
52. (2) 下列何者的導電率最高①銅②銀③鐵④鋁。
53. (1) 若  $P_o$  為輸出功率， $P_i$  為輸入功率， $P_L$  為損失，則變壓器效率為  
①  $(P_o/P_i) \times 100\%$  ②  $[(P_o - P_L)/P_i] \times 100\%$  ③  $(P_L/P_i) \times 100\%$  ④  $[P_o/(P_i + P_L)] \times 100\%$ 。
54. (1) 電度的單位為①瓦時②安培③伏特④瓦特。
55. (4) 電源頻率由 60Hz 變為 50Hz 時，較不受影響的是①變壓器②電動機③日光燈④電熱器。
56. (2) 下圖中  $A_2 = 3$  安培，則  $A_1$  為① 6A ② 9A ③ 12A ④ 15A。

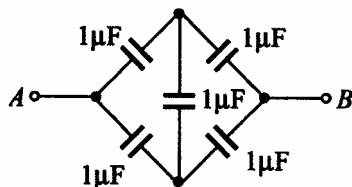


57. (2) 若  $i(t) = 141.4 \sin \quad t$  安培時，則電流之有效值為① 70.7A ② 100A ③ 141.4A ④ 200A。
58. (2) 有一電路之阻抗為  $6 + j8$  歐姆，則功率因數為① 0.48 ② 0.6 ③ 0.8 ④ 1。
59. (2) 台灣地區之電源，其週期為① 60 秒② 1/60 秒③ 50 秒④ 1/50 秒。
60. (1)  $2 \mu F$  與  $3 \mu F$  之電容器串聯後接於 100V 之直流電源，則  $3 \mu F$  電容器之端電壓為① 40V ② 50V ③ 60V ④ 100V。
61. (4) 有一 2000 瓦的電熱水器，連續使用 10 小時，所消耗電力為① 2 度② 5 度③ 10 度④ 20 度。
62. (1) 將 3 歐姆的電阻與 3 西門子(SIEMENS)的電導並聯相接，其等效電阻為① 3/10 歐姆② 10/3 歐姆③ 3/2 歐姆④ 2/3 歐姆。
63. (2) 10mA 等於① 0.1 安培② 0.01 安培③ 0.001 安培④ 0.0001 安培。
64. (3) 一銅線在 20 時電阻為 50 ，則在 40 時電阻為① 25 ② 50 ③ 54 ④ 100 。
65. (2) 直流電源的頻率為① Hz ② 0Hz ③ 50Hz ④ 100Hz。
66. (3) 在電源不變的情況下，將 1000W 的電熱線長度剪去 20%，則其功率變為① 800W ② 1000W ③ 1250W ④ 2500W。
67. (4) 有  $n$  個完全相同的電阻，其串聯時之總電阻為並聯時之①  $1/n$  倍②  $n$  倍③  $1/n^2$  倍④  $n^2$  倍。
68. (3) 一個 100W 的燈泡，當供應電壓減少一半，其消耗功率亦隨之減少為① 1/2 ② 1/3 ③ 1/4 ④ 1/8。
69. (1) 設有三個電容量相同的電容器，其耐壓分別為 50V、100V、75V，若將其串聯接線，則其最高的工作電壓為① 150V ② 200V ③ 225V ④ 250V。
70. (2) 在純電感電路中，其電流落後電壓①  $60^\circ$  ②  $90^\circ$  ③  $180^\circ$  ④  $270^\circ$ 。
71. (2) 使用交流電壓表測量交流電源的電壓，若其指示為 120V，則該值為① 平均值② 有效值③ 峰值④ 瞬間值。
72. (4) 於一導體中在 0.1 秒流過 10 庫倫的電荷量，其電流為① 0.1A ② 1A ③ 10A ④ 100A。
73. (1) 在一電容與電感並聯諧振電路中，流過兩支路的電流各為 1A，則其總電流為① 0A ② 0.707A ③ 1A ④ 2A。
74. (1) 在一 RC 串聯電路， $R = 15k$ 、 $C = 0.1 \mu F$ ，則其時間常數為① 0.0015 秒② 0.015 秒③ 15 毫秒④ 150 毫秒。
75. (4) 電流流過電阻所產生的熱量可由  $H = 0.24I^2Rt$  的公式求得， $H$  (熱量) 的單位為① BTU ② 瓦特③ 焦耳④ 卡。
76. (2) 工程上實用的磁通單位為① 庫倫② 韋伯③ 高斯④ 奧斯特。

77. (3) 下圖所示之電橋平衡時， $R_x$  值為 ①  $R_3/(R_1R_2)$  ②  $R_1R_2/R_3$  ③  $(R_3/R_1)R_2$  ④  $(R_3/R_2)R_1$ 。

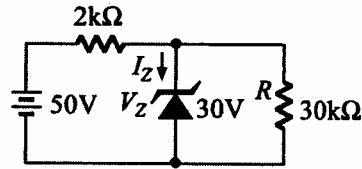


78. (4) 某線圈每分鐘有 1.2 庫倫的電量通過，則線圈電流為 ① 1.2A ② 2.0A ③ 72A ④ 0.02A。
79. (1)  $i(t) = 14.14\sin(377t + 30^\circ)$ ，則該電壓有效值  $V_{rms} =$  ① 10V ② 14.14V ③ 20V ④ 9V。
80. (3) RLC 串聯諧振電路，其阻抗  $Z =$  ①  $\sqrt{R^2 + X_L^2}$  ②  $\sqrt{R^2 + X_C^2}$  ③  $R$  ④  $\sqrt{R^2 + (X_L + X_C)^2}$ 。
81. (2) 若將 10V 電壓加至一個電阻  $R$  上，而此  $R$  的色碼，由左至右，依次為棕、黑、紅、金，則流過  $R$  之電流約為 ① 5mA ② 10mA ③ 50mA ④ 100mA。
82. (2) 某電阻器兩端電壓為 10 伏特，電流為 400 毫安培，若流過此電阻器之電流為 1 安培時，電壓為 ① 10V ② 25V ③ 50V ④ 100V。
83. (3) 1 和 2 兩電阻器額定功率為 0.5W，串聯後最大能加多少伏特，而不超過額定功率損耗 ① 0.1V ② 1V ③ 1.5V ④ 3V。
84. (3) 下列何者正確？ ① 理想電壓表其內阻應為零 ② 理想電流源其內阻應為零 ③ 理想電壓源其內阻應為零 ④ 理想電壓放大器輸出阻抗應為無窮大。
85. (1) 應用戴維寧定理求等效電阻時 ① 所有獨立電壓源短路，所有獨立電流源開路 ② 所有獨立電壓源開路，所有獨立電流源短路 ③ 所有電源均短路 ④ 所有電源均開啟。
86. (3) 三個電容  $C_1$ 、 $C_2$ 、 $C_3$  各為  $5\mu F$ 、 $10\mu F$ 、 $20\mu F$ ，在串聯連接下，電容值若為  $B/A$ ，請問  $2A+B$  應為 ① 18 ② 25 ③ 34 ④ 41。
87. (1) 下圖 A、B 兩點間之總電容量  $C_{AB} =$  ①  $1\mu F$  ②  $2\mu F$  ③  $1.5\mu F$  ④  $4\mu F$ 。

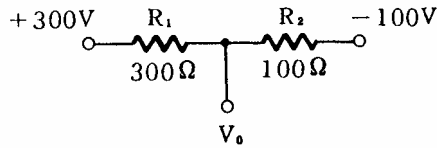


88. (3) 下圖所示，求通過稽納二極體之電流  $I_Z$  為 ① 4mA ② 5mA ③ 9mA ④

10 mA。

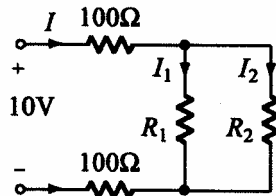


89. (1) 下圖所示，求  $V_0 =$  ① 0V ② 200V ③ 400V ④ 10V。

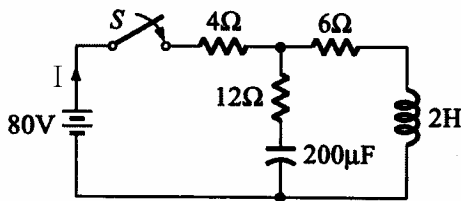


90. (3) 以直角座標相量表示  $10 \angle 30^\circ =$  ①  $5 - j5\sqrt{3}$  ②  $5 + j5\sqrt{3}$  ③  $5\sqrt{3} + j5$  ④  $5\sqrt{3} - j5$ 。

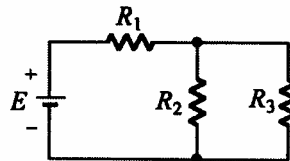
91. (1) 下圖所示， $I = 40\text{mA}$ ， $I_1 = I_2$ ，則  $R_1$  之值為 ① 100 ② 150 ③ 200 ④ 250 。



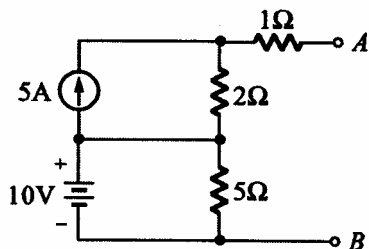
92. (4) 下圖所示，在開關 S 接通之瞬間線路電流 I 為 ① 1A ② 2A ③ 4A ④ 5A。



93. (1) 下圖所示，若  $E$ 、 $R_1$ 、 $R_2$  不變，則  $R_3$  增加時， $R_2$  的電流將 ① 增加 ② 減少 ③ 不變 ④ 不一定。

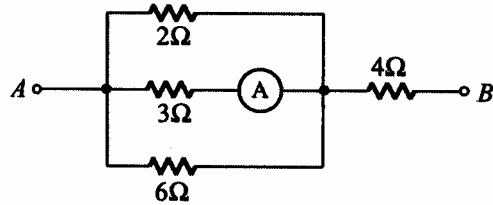


94. (2) 下圖所示，求 A、B 兩端戴維寧等效電阻為 ① 2 ② 3 ③ 5 ④ 8 。

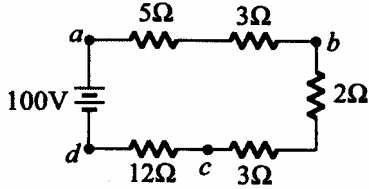


95. (2) 下圖所示，電流表 A 之讀數為 4A 時，A、B 兩端之電壓為 ① 48V ②

60V ③ 72V ④ 80V。

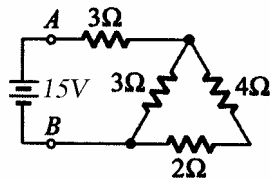


96. (4) 下圖所示， $V_{dc}$  為 ① -32V ② 36V ③ 48V ④ -48V。

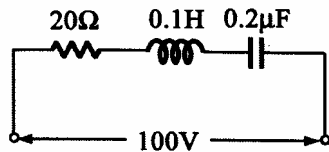


97. (1) 有一電流  $i(t) = 10\sin t$  通過  $5\Omega$  電阻，則其消耗功率為 ① 250W ② 375W ③ 500W ④ 625W。

98. (2) 下圖所示，A、B 間總電阻為 ① 4 ② 5 ③ 6 ④ 8。

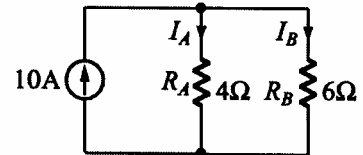


99. (1) 下圖所示，當發生諧振時，線路電流為 ① 5A ② 10A ③ 15A ④ 20A。



100. (4) 下圖所示，則下列何者正確？ ①  $I_A / I_B = R_A / R_B$  ②  $P_A = P_B$  ③

$I_A = 10 \times (R_A / (R_A + R_B))$  ④  $I_A = 6A, I_B = 4A$ 。

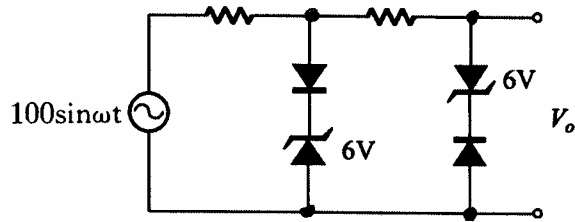


02800 工業電子 丙級 工作項目 09：電子學

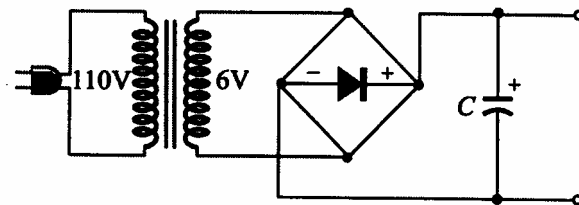
1. (2) 二極體反向偏壓時，空乏區寬度 ① 不變 ② 變大 ③ 變小 ④ 不一定。
2. (3) 半導體之電中性是指 ① 無自由電荷 ② 無主要載子 ③ 有等量的正電荷與負電荷 ④ 無電荷存在。
3. (1) 在 N 型半導體裡，電洞的濃度將隨溫度的升高而 ① 增加 ② 減少 ③ 對數關係增加 ④ 無關。



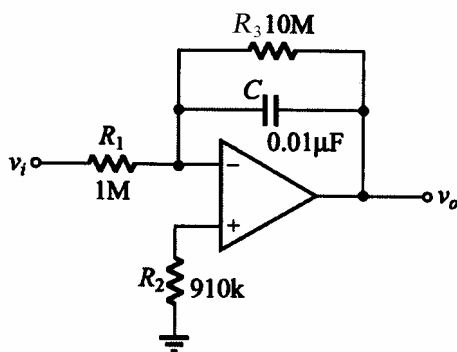
4. (1) 當溫度升高時，一般金屬導體之電阻值增加，矽半導體在溫度上升時，其電阻值①下降②上升③不變④成絕緣體。
5. (4) N型矽或鍺半導體①為絕緣體②含有多量電洞③是不良的導體④含有多量的電子。
6. (4) 下圖  $V_o$  輸出波形近似於①正弦波②三角波③階梯波④方波。



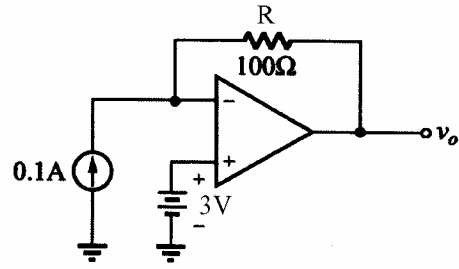
7. (2) 調幅波載波振幅隨著下列何種調變信號參數而改變？①頻率②振幅③斜率④相角。
8. (2) 調頻電台之最大頻率偏差為① $\pm 50\text{kHz}$  ② $\pm 75\text{kHz}$  ③ $\pm 100\text{kHz}$  ④ $\pm 200\text{kHz}$ 。
9. (2) 接收機之調諧電路，其頻率響應曲線愈尖銳，則①傳真度愈高②選擇性愈佳③ S/N 比較低④頻寬愈大。
10. (2) 一正回授電路欲使其產生正弦波振盪時，則環路增益(Loop Gain)應大約等於① 0 ② 1 ③  $\sqrt{2}$  ④  $\sqrt{29}$ 。
11. (2) 下圖所用之電解電容器 C 其耐壓最小要多少伏特以上？① 6V ② 10V ③ 16V ④ 25V。



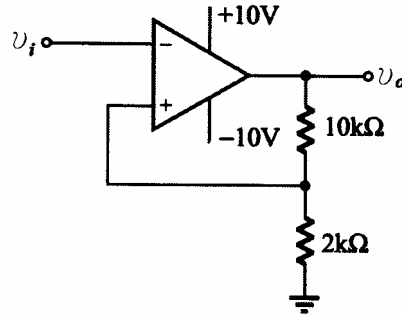
12. (3) 下圖， $v_i$  輸入一方波信號為 1kHz，在輸出未飽和情況下，輸出信號 $v_o$  應為①方波②鋸齒波③三角波④矩形波。



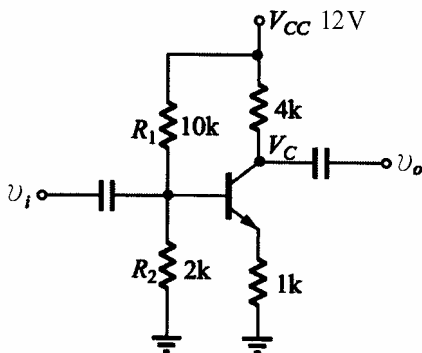
13. (4) 下圖電流源為 0.1A，電壓源為 3V，R 為 100 $\Omega$ ，則輸出電壓  $v_o$  為① +13V ② +7V ③ 0V ④ -7V。



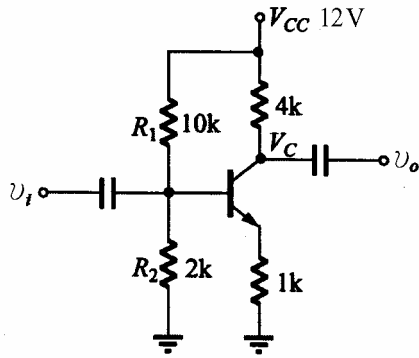
14. (4) 下圖若  $v_i = 20V$  之 1kHz 正弦波信號，則輸出  $v_o$  為①  $V_p = -14V$  之 1kHz 正弦波 ②  $V_p = +14V$  之 1kHz 正弦波 ③  $V_p = +14V$  之 1kHz 餘弦波 ④  $V_{p-p} = 20V$  之方波。



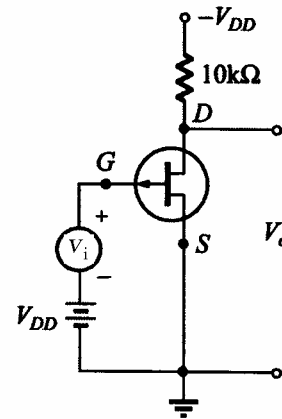
15. (2) 有關理想放大器的特性，下列何者不正確①輸入阻抗無窮大②輸出阻抗無窮大③頻帶寬度無窮大④電壓增益無窮大。
16. (2) SCR 導通後 A-K 兩端點間之電壓降約為① 0.6 0.8V ② 1 2V ③ 4 5V ④ 10 20V。
17. (4) 下列敘述何者不正確① TRIAC 可控制交流電功率② SCR 為單向導通元件③ DIAC 可作觸發元件④ UJT 為單向激發導電二極體。
18. (3) 一般 DIAC 之崩潰電壓約為① 5 10V ② 10 25V ③ 25 45V ④ 60 80V。
19. (1) UJT 的  $\eta$  值（本質內分比）將隨著溫度增加而①減少②增加③不變④不一定。
20. (4) 若電晶體的  $\beta$  值是 99，則其共基極之順向電流轉換率  $\alpha$  等於① 0.01 ② 9.9 ③ 1.01 ④ 0.99。
21. (2) 有關下圖之敘述，下列何者為真①  $R_1$  短路，則  $V_C = 12V$  ②  $R_1$  斷路，則  $V_C = 12V$  ③  $R_1$  斷路，則  $V_C = 0V$  ④  $R_1$  短路，則  $V_C = 0V$ 。



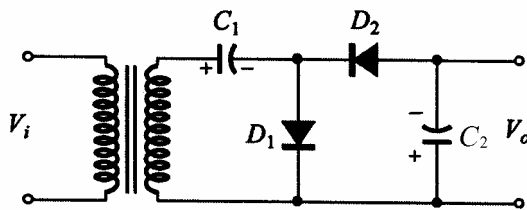
22. (2) 下圖電路其交流電壓增益約為①-2 ②-4 ③+100 ④-100。



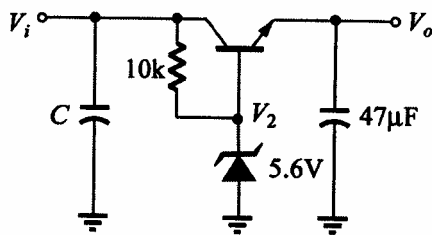
23. (3) 下圖場效電晶體  $r_d = 30k$  ,  $g_m = 2mS$  , 則此電路在低頻時電壓增益為①-60 ②  $60 \times 1000$  ③-15 ④  $-15 \times 1000$ 。



24. (1) 下圖電路為①倍壓整流電路②截波電路③檢波電路④濾波電路。

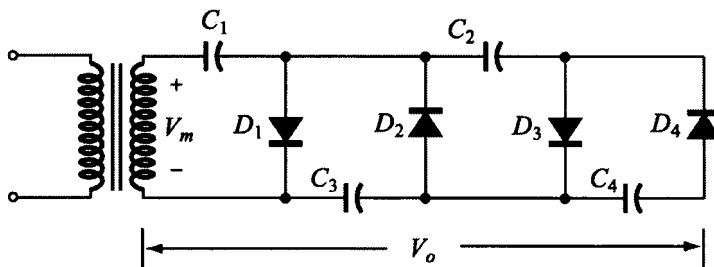


25. (1) 下圖  $V_i = 10V$  , 而  $V_o$  為① 5V ② 5.6V ③ 6.2V ④ 10V。



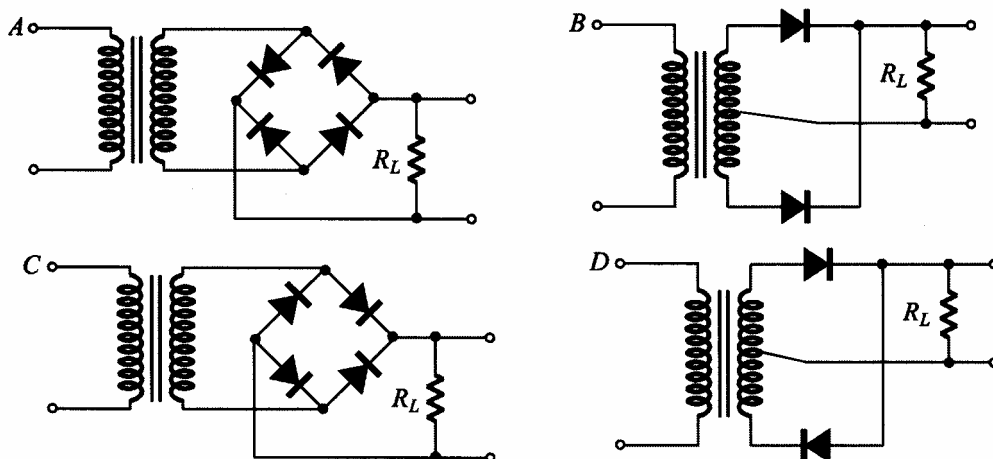
26. (4) 在限流(Limited Current)的穩壓電源上，接上負載電阻時，其過負載的指示燈亮時，原因不可能是①負載短路②限流值設定過小③電源輸出端兩端因接觸短路④使用高阻抗儀表測試負載端。
27. (2) 在電晶體各組態中，若  $I_B$  為固定，則電壓增益與電流增益乘積最高的是①共基極②共射極③共集極④共閘極。
28. (1) 電晶體共射極放大器，加入射極電阻器而不加旁路電容器可①提高輸入阻抗②降低輸出阻抗③降低輸入阻抗④增加非線性失真。

29. (4) 電晶體的共基極短路電流增益 與共射極短路電流增益 兩者之間的關係為：
- ①  $\beta = \frac{\alpha}{1+\beta}$  ②  $\beta = \frac{1+\alpha}{\alpha}$  ③  $\beta = \frac{\alpha}{\alpha-1}$  ④  $\beta = \frac{\alpha}{1-\alpha}$ 。
30. (1) 場效電晶體(FET)工作時靠①電壓②電流③電阻④電容 來控制其電流大小。
31. (4) 效率最高的放大器是①甲類②乙類③甲乙類④丙類 放大器。
32. (1) 正常 OCL 放大器，其輸出端的中點電壓為① 0V ②  $1/2V_{cc}$  ③  $2/3V_{cc}$  ④  $1V_{cc}$ 。
33. (3) 二極體不能做下列那一項工作①整流②檢波③放大④偏壓。
34. (2) 一理想的電流源，其內阻應為①零②無窮大③隨負載而定④固定值。
35. (3) 下圖倍壓整流電路應為多少倍①二倍②三倍③四倍④六倍。

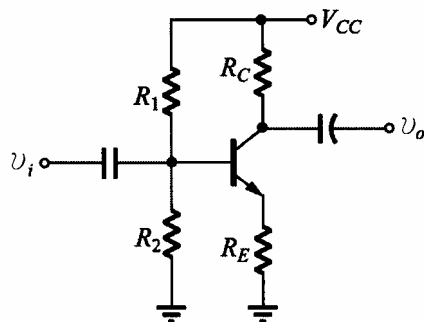


36. (3) 上升時間(Rise Time)之定義是波形由① 0 100% ② 5% 95% ③ 10% 90% ④ 50% 100% 所經過的時間。
37. (2) 若理想電源供應器的滿負載為 4 ，若負載電流降為滿負載時的一半，則負載電阻為① 2 ② 8 ③視電壓大小而定④視電流大小而定。
38. (1) 全波整流電路中，每只二極體的最大電流為 10A，各串聯一只 0.1 電阻的目的，依下列敘述何者錯誤①限流②平衡兩個二極體所通過的電流③平衡兩個二極體所消耗的功率④兩個二極體獲得熱平衡。
39. (1) 橋式整流的漣波頻率為電源頻率的① 2 倍② 3 倍③ 4 倍④ 1 倍。

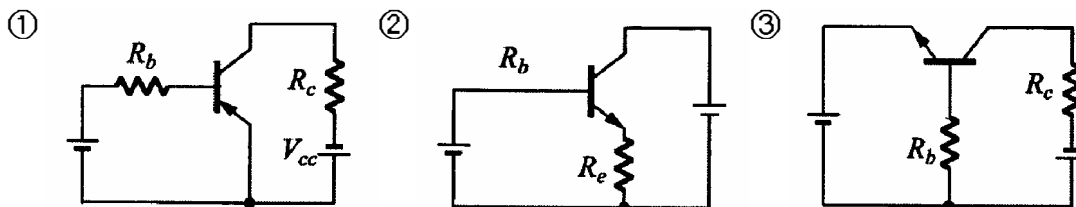
40. (2) 下列整流電路，何者可得全波整流輸出？① A 與 B ② B 與 C ③ C 與 D ④ A 與 D。

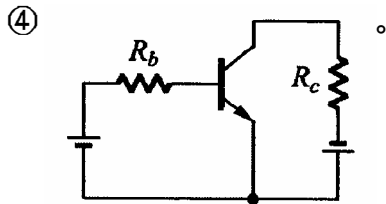


41. (4) 下列電路具有開關之動作為① 箝位電路② 截波電路③ 整流電路④ 交換電路。
42. (3) 一個時間常數(Time Constant)是表示輸出信號達到飽和值的① 26.8 % ② 50 % ③ 63 % ④ 75 %。
43. (3) 雙載子電晶體交換電路，工作於非飽和區，交換速度很短，主要乃是電路不工作在① 截止區② 動作區③ 飽和區④ 電阻區。
44. (2) FET 三個參數( $g_m$ ,  $r_d$ ,  $\mu$ )之關係是①  $g_m = \mu \times r_d$  ②  $\mu = g_m \times r_d$  ③  $r_d = g_m \times \mu$  ④  $r_d = g_m / \mu$ 。
45. (1) 下圖所示之電路，其輸入與輸出相位① 相差  $180^\circ$  ② 相同 ③ 相差  $90^\circ$  ④ 接近於  $0^\circ$ 。



46. (2) 共集極電路結構是

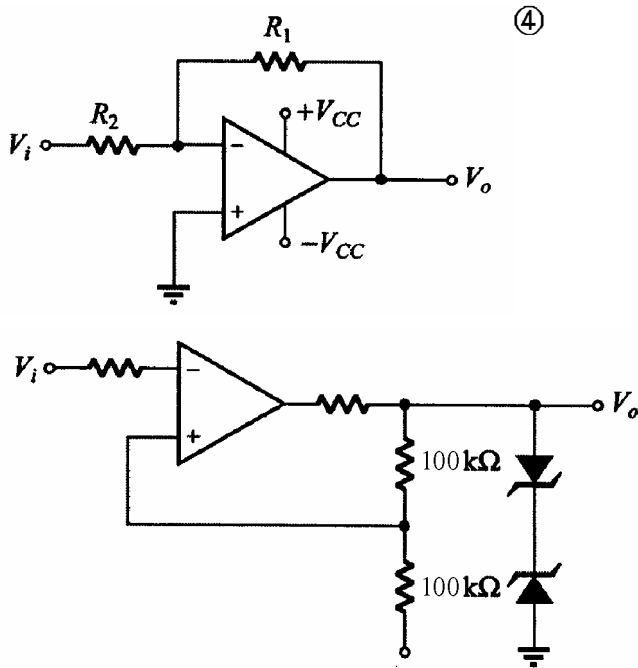
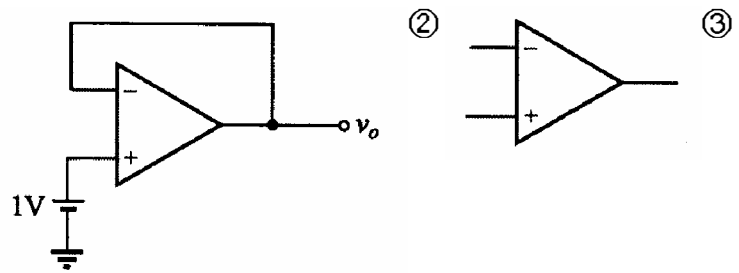




47. (1) 半波整流電路，若輸入為正弦波 120 伏特有效值，負載為純電阻，則輸出  $V_{DC}$  為 ① 54 伏特 ② 70 伏特 ③ 108 伏特 ④ 162 伏特。
48. (2) 射級隨耦器屬於 ① 電流串聯回授 ② 電壓串聯回授 ③ 電壓並聯回授 ④ 電流並聯回授。
49. (1) 放大器的偏壓選擇不當，將引起 ① 波幅失真 ② 頻率失真 ③ 相位失真 ④ 輸入信號短路。
50. (4) 某一放大器其輸入功率為 0.1W，輸出功率為 10W，則功率增益為 ① 0.1dB ② 1dB ③ 10dB ④ 20dB。
51. (2) 有一電源電路之輸出端，利用直流電壓表測得 25V，利用交流電壓表串聯一電容器測得 2.5V，則其漣波百分比(r%)為 ① 1% ② 10% ③ 9% ④ 90%。
52. (1) 在電晶體參數中 
$$h_{11} = \left. \frac{\Delta V_1}{\Delta I_1} \right|_{V_2=0}$$
 其  $h_{11}$  代表意義為 ① 輸入阻抗 ② 輸出導納 ③ 逆向電壓轉換比 ④ 順向電流轉換比。
53. (2) 在共射極電路中，其電晶體的  $h_{11}$  值相當於那一參數 ①  $h_{ie}$  ②  $h_{fe}$  ③  $h_{re}$  ④  $h_{ce}$ 。
54. (2) 下列何者具有最大的輸入阻抗 ① JFET ② MOSFET ③ 射極隨耦器 ④ 達靈頓放大器。
55. (3) 一個三級放大電路，各級電壓增益分別為 10、20、30 則電壓增益為 ① 60 ② 1200 ③ 6000 ④ 12000。
56. (4) 功率電晶體的集極與外殼通常接在一起，其最主要目的是 ① 美觀 ② 製作方便 ③ 容易辨認 ④ 散熱較好。
57. (1) 下列何者具有高增益、高輸入阻抗及偏移量小的特性 ① 差動放大器 ② 達靈頓放大器 ③ 低頻放大器 ④ 高頻放大器。
58. (2) 橋式整流電路中的二極體 PIV 值為峰值電壓的 ① 0.5 倍 ② 1 倍 ③ 2 倍 ④ 4 倍。
59. (2) 一直流電源供應器，無載時輸出電壓為 30V，滿載時輸出電壓為 25V，則電壓調整率為 ① 16.6% ② 20% ③ 60% ④ 83.3%。
60. (1) 在射極放大器上所使用的射極旁路電容器，其作用是 ① 提高電壓增益 ② 濾去電源漣波 ③ 防止短路 ④ 提高耐電壓。
61. (3) 下列何種電子元件不具有負電阻特性 ① 單接面電晶體 ② 矽控整流器 ③ 場效電晶體 ④ PNP 二極體。

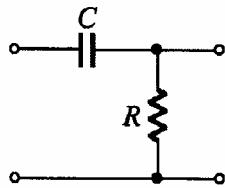
62. (4) 電阻器的色碼由左向右依次為橙、綠、黃、金，其電阻值為①  $35 \pm 5\%$  ②  $65k \pm 10\%$  ③  $250k \pm 5\%$  ④  $350k \pm 5\%$ 。

63. (2) 下列何者為比較器①



64. (3) 電晶體振盪電路為何類放大器？① A 類② B 類③ C 類④ AB 類。

65. (1) 下圖為一濾波器電路，它是屬於一種①高通濾波器②低通濾波器③帶通濾波器④積分器。



66. (1) 石英晶體振盪器的主要優點是①頻率穩定②容易振盪③振幅較大④振幅穩定。

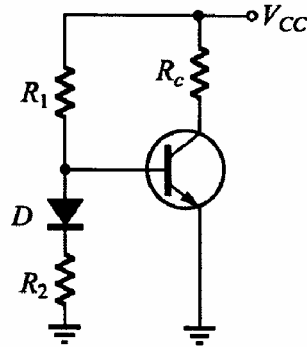
67. (4) 把直流電力變成交流電力的裝置為①整流器②倍壓器③濾波器④變流器。

68. (1) 理想電壓源其內阻為① 0 ②無限大③隨負載電阻而定④隨頻率而定。

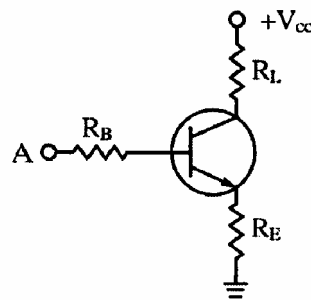
69. (1) 下列那種放大電路，在靜態時，仍消耗一些功率① A 類② B 類③ C 類④ AB 類。

70. (2) 二極體串聯使用可增加①最大電流②最大逆向耐壓③交換時間④恢復時間。

71. (2) 當電晶體  $\beta = 100$ ，若輸入電流  $I_b = 10 \mu A$ ， $I_c = 800 \mu A$  時，此電晶體工作於①截止區②飽和區③線性工作區④空乏區。
72. (1) 理想橋式整流電路輸出之直流電壓為半波整流電路之① 2 倍②  $\sqrt{2}$  倍③  $1/2$  倍④  $1/\sqrt{2}$  倍。
73. (3) 電容器 C，其電容抗為① C ②  $2 \pi f C$  ③  $1/2 \pi f C$  ④  $C/(2 \pi f C)$ 。
74. (1) 矽二極體之切入電壓( $V_T$ )在室溫下約為 0.6V，當溫度升高時， $V_T$ 將①下降②上升③不變④不一定。
75. (3) UJT 的功用為①整流②放大③產生脈波④阻抗匹配。
76. (3) RC 串聯電路，若  $R = 680k \Omega$ ， $C = 0.22 \mu F$ ，則時間常數約為① 1.5ms ② 15ms ③ 150ms ④ 0.15ms。
77. (1) 常用來提供 TTL IC 穩定電源的穩壓 IC 為① 7805 ② 7812 ③ 7815 ④ 7912。
78. (3) 一個理想的電壓放大器，其輸入阻抗  $R_i$  與輸出阻抗  $R_o$  應分別為①  $\infty, \infty$  ② 0, 0 ③  $\infty, 0$  ④ 0, 0。
79. (1) 下列那一個元件是運算放大器？①  $\mu A741$  ② 2N3569 ③ SN7400 ④ CD4001。
80. (4) 下列元件何者不可做光感測器？①光二極體②光電晶體③光敏電阻④發光二極體。
81. (4) 下圖所示，二極體 D 用來作為①半波整流②保護電晶體③防止雜音④溫度補償。



82. (1) 電晶體小信號放大，其主要要求為①線性放大②功率放大③頻率響應好④電流增益大。
83. (3) 下圖所示，A 點與接地點間之輸入阻抗約等於①  $R_B$  ②  $R_B + R_E$  ③  $R_B + R_E(1 + \beta)$  ④  $R_B + \alpha R_E$ 。





84. (3) 共射極放大器輸入信號與輸出信號各位於何極之間① B-C , C-E ② B-E , C-B ③ B-E , C-E ④ C-B , C-E。
85. (2) 電晶體工作於 CE 放大時，集極對射極電壓應① NPN 及 PNP 為正② NPN 為正，PNP 為負③ NPN 及 PNP 為負④ NPN 為負，PNP 為正。
86. (4) 電晶體截止時  $V_{CE}$  電壓等於① 0V ② 0.2V ③ 0.8V ④  $V_{CC}$ 。
87. (1) 飽和型電晶體開關電路比非飽和型電晶體開關電路速度慢，其主要原因為①儲存時間較長②延遲時間較長③上昇時間較長④下降時間較長。
88. (1) 在各種交連電路中，何種交連之頻率響應最差①變壓器交連② RC 交連③電感交連④直接交連。
89. (2) 要使 N 通道增強型 MOSFET 導通其閘極偏壓應為①負電壓②正電壓③正負電壓均可④零電壓。
90. (1) 若將共源級放大器之源極旁路電容器移走時①電壓增益降低②電壓增益增加③互導降低④互導增加。
91. (1) 下列何者不是達靈頓電路之特點①高電壓增益②高電流增益③高輸入阻抗④低輸出阻抗。
92. (4) 有一放大器將 1mV 信號放大至 10V，其電壓增益為① 20dB ② 40dB ③ 60dB ④ 80dB。
93. (2) 放大器，其工作點在截止區者為①甲乙類放大②乙類放大③甲類放大④丙類放大。
94. (3) 乙類推挽放大作功率放大器時最高效率為① 61.5% ② 70.5% ③ 78.5% ④ 85.5%。
95. (2) 一個三級放大電路，各級電壓分別為 10dB、20dB、30dB 則總電壓增益為① 30dB ② 60dB ③ 300dB ④ 600dB。
96. (1) 欲使差動放大器趨於理想則需①提高 CMRR ②提高電源電壓③降低輸入電壓④提高共模增益。
97. (1) 放大器電壓增益為 100，若加上一回授因數  $\beta = 0.19$  的負回授電路，則回授後電壓增益為① 5 ② 19 ③ 50 ④ 100。
98. (2) 運算放大器之 CMRR 值愈大時，則表示①共模增益愈大②易消除雜訊③差動放大器愈差④容易產生雜訊。
99. (3) 放大器加上負回授後①增益增加②頻寬減少③改善失真④穩定度減低。
100. (3) 何種負回授型態可增加輸出電阻與降低輸入電阻①電壓串聯負回授②電壓並聯負回授③電流並聯負回授④電流串聯負回授。
101. (3) 半波整流電中（含一個二極體及電容）二極體之最大反向電壓約為電源峰值的① 1 倍② 1.414 倍③ 2 倍④ 3 倍。

102. (3) RC 串聯電路之時間常數為① C/R ② R/C ③ RC ④ R + C。
103. (2) 相移振盪器的 RC 相移網路至少需要幾節① 2 節② 3 節③ 5 節④ 7 節。
104. (4) 下列何者為非正弦波振盪器① 考畢子振盪器② 韋恩電橋振盪器③ 相移振盪器④ 無穩態多諧振盪器。
105. (4) 一個工作電壓為 2V，工作最大電流為 20mA 的 LED 若工作於 12V 直流電壓源，則串接的電阻 R 應選用① 100 ② 200 ③ 390 ④ 510。
106. (3) LED 發光顏色與下列何者有關① 外加電壓大小② 外加電壓頻率③ 材料能帶間隙④ 通過電流大小。
107. (3) SCR 控制電路中若觸發角度越大表示負載功率消耗① 不變② 增加 1 倍③ 越小④ 越大。
108. (2) 下列那一個元件可利用正或負脈衝觸發而雙向導通① UJT ② TRIAC ③ PUT ④ SCR。
109. (4) 下列那一種方法不能使已經導通的 SCR 截止① 陽極電流降至維持電流以下② 切斷陽極電流③ 使 SCR 的陽極陰極電壓反相④ 切斷閘極電流。
110. (4) 下列那一種元件不適合做感測器① 應變器② 熱電耦③ 光電晶體④ LED。
111. (1) 電晶體飽和時， $V_{CE}$  電壓約為① 0.2V ② 0.8V ③ 1.0V ④  $V_{CC}$ 。
112. (4) 當運算放大器飽和時，下列何種特性仍能保持？① 線性電流增益② 線性電壓增益③ 輸出阻抗趨近無窮大④ 輸入阻抗趨近無窮大。
113. (4) 下列何者最有可能為 UJT 的本質內分比( )之值？① 0.1 ② 1.9 ③ 5.0 ④ 0.6。
114. (3) TRIAC 的三根腳名稱分別為① 阻極、陰極、閘極② 基極、射極、集極③ 閘極、MT1 極、MT2 極④ 基極、源極、汲極。
115. (2) 電子的帶電量為多少庫侖？①  $9.11 \times 10^{-31}$  ②  $-1.6 \times 10^{-19}$  ③  $-1.67 \times 10^{-27}$  ④  $1.60 \times 10^{-19}$ 。
116. (3) 下列何者不是音樂 IC 的編號？① HT3810 ② HT3814 ③ HT4830 ④ TA66T。
117. (1) 在通訊系統中將數位訊號轉換成類比訊號，並將其傳送出去的過程稱為① 調變② 通訊③ 解調④ 傳輸。
118. (2) 正反器(flip-flop)為何種振盪器？① 多穩態多諧振盪器② 雙穩態多諧振盪器③ 非穩態多諧振盪器④ 單穩態多諧振盪器。
119. (3) 元素的原子量是指① 電子數 + 質子數② 電子數 + 中子數③ 質子數 + 中子數④ 電子數。

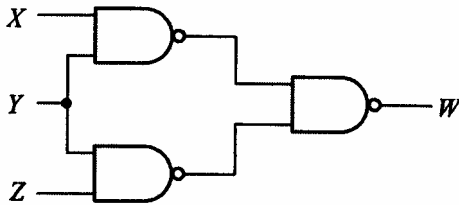
120. (4) 若需要辨別電晶體的 C、B、E 接腳，若使用指針型三用電錶時，需將電錶切換至① AC 檔② DC 檔③ 電流檔④ 歐姆檔。

02800 工業電子 丙級 工作項目 10：數位系統

1. (2) 二進位數 110111，其等效之十進位數為① 49 ② 55 ③ 62 ④ 103。
2. (3) 十進位數 38，其等效之 BCD 碼為① 111000 ② 100110 ③ 00111000 ④ 00100110。
3. (3) 下圖所示，經化簡後其最簡函數 F 為①  $F = DC + DB\bar{A} + B\bar{A}$  ②  $F = DC + DB\bar{A} + \bar{C}B\bar{A}$  ③  $F = DC + B\bar{A}$  ④  $F = BC + D\bar{A}$ 。

	DC	00	01	11	10
BA		00	01	11	10
00		0	0	1	0
01		0	0	1	0
11		0	0	1	0
10		1	1	1	1

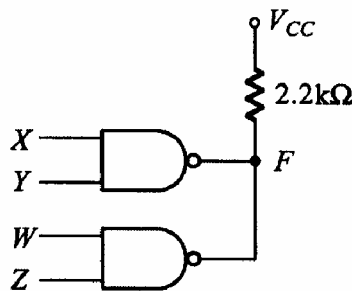
4. (1) 下圖所示，W 為①  $Y(X+Z)$  ②  $\overline{\overline{XY} + \overline{YZ}}$  ③  $XYZ$  ④  $\overline{XYZ}$ 。



5. (2) 下圖所示，W 為①  $\overline{XY} + XY$  ②  $\overline{XY} + X\bar{Y}$  ③  $XY + X\bar{Y}$  ④  $X + Y$ 。

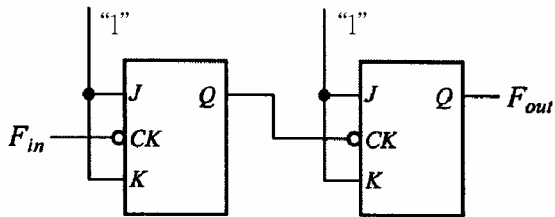


6. (4) 下圖所示若兩個反及閘皆為開集極輸出閘，其輸出 F 為①  $\overline{XY} + \overline{WZ}$  ②  $\overline{XY} + \overline{WZ}$  ③  $\overline{XYWZ}$  ④  $\overline{XY} \cdot \overline{WZ}$ 。




7. (2) 欲設計一個除 99 的非同步計數器，至少需若干正反器？① 6 ② 7 ③ 8 ④ 10 個。

8. (3) 下圖所示若輸入端  $F_{in}$  加入一個 20kHz 之方波信號，則其輸出信號  $F_{out}$  頻率為 ① 20kHz ② 10kHz ③ 5kHz ④ 2kHz。



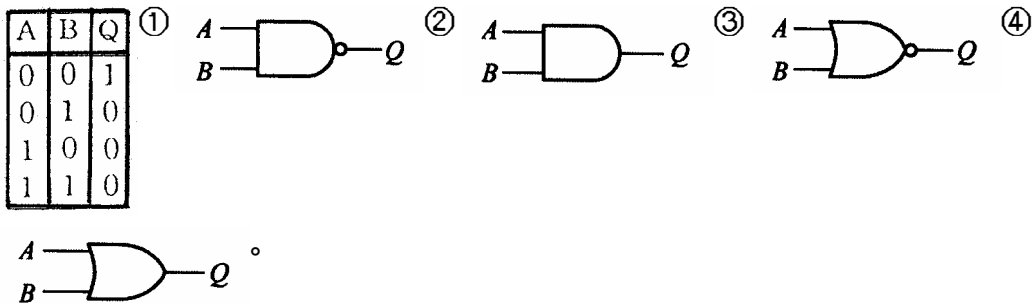
9. (4) 下列那種 IC 的消耗功率最低 ① 7400 ② 54H00 ③ 74S00 ④ 74LS00。

10. (2) 下列四個邏輯閘表示圖，何者為正確？




11. (4) 將  $0.625_{(10)}$  轉換成二進位，其值為 ① 0.011 ② 0.010 ③ 0.111 ④ 0.101。

12. (3) 下述那個邏輯閘具有下圖的真值表。



13. (3) 8 個位元所能表示的最大值為 ①  $8000_{(10)}$  ②  $11111111_{(10)}$  ③  $255_{(10)}$  ④  $512_{(10)}$ 。

14. (3) 下列四個邏輯閘表示圖，何者為正確？



15. (1) 正邏輯閘的 OR gate 相當於負邏輯閘的 ① AND ② OR ③ NAND ④ NOR gate。

16. (3) TTL 數位電路的輸入端高電位(H)與低電位(L)是由下列何種電位範圍來區分: ① 0.8V 以下為 L, 2.4V 以上為 H ② 0.4V 以下為 L, 2.0V 以上為 H ③ 0.8V 以下為 L, 2.0V 以上為 H ④ 0.4V 以下為 L, 2.4V 以上為 H。

17. (4) 布氏代數  $f = \bar{A}C + \bar{A}B + A\bar{B}C + BC$  可簡化為 ①  $ABC$  ②  $A+B+C$  ③  $AB+AC$  ④  $C + \bar{A}B$ 。

18. (3) 三個正反器連接起來的計數器，最多可當成除以 ① 2 ② 4 ③ 8 ④ 16 的除頻器。

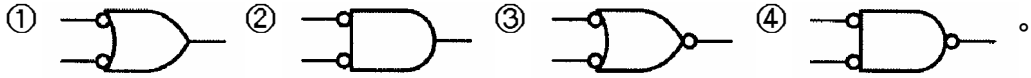
19. (1) 所謂同步計數器是表示所有正反器的 ① Clock ② Clear ③ Preset ④ Set 的接腳全部接在一起，施以同步控制。

20. (1) TTL 74 系列中，下列何者的處理速度最快？① 74S ② 74L ③ 74LS ④ 74H。

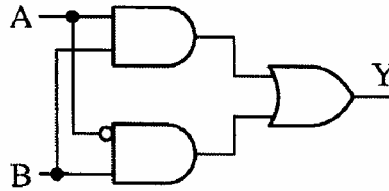
21. (3) 下圖 Y 為 ① 0 ② 1 ③ A ④  $\bar{A}$ 。



22. (1) 下列何者具有反及閘(NAND)功能？



23. (1) 下圖的邏輯電路其布林代數表示為 ①  $Y=AB+\bar{A}B$  ②  $Y=\bar{A}B+A\bar{B}$  ③  $Y=AB+\bar{A}\bar{B}$  ④  $Y = A \quad B$ 。

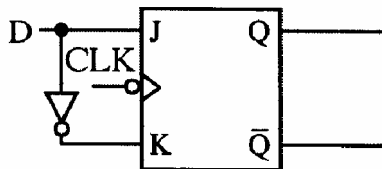


24. (4) 下列各邏輯族中何者之交換速度最快 ① TTL ② NMOS ③ CMOS ④ ECL。

25. (2) 在 J.K 正反器中， $J = 0$ 、 $K = 1$  時，當 CLOCK(時脈)信號激發後，其輸出 Q 與  $\bar{Q}$  為 ①  $Q = 1, \bar{Q} = 1$  ②  $Q = 0, \bar{Q} = 1$  ③  $Q = 0, \bar{Q} = 0$  ④  $Q = 1, \bar{Q} = 0$ 。

26. (4) 依據狄莫根(DEMORGAN'S)定理，下列何者正確？ ①  $A \cdot B = \overline{A+B}$  ②  $AB = \bar{A} + \bar{B}$  ③  $\overline{AB} = \bar{A} + \bar{B}$  ④  $\overline{AB} = \bar{A} \cdot \bar{B}$ 。

27. (1) 下圖為何種正反器？ ① D 型 ② T 型 ③ RS 型 ④ JK 型。



28. (2) 在二進制表示法中，10110.11 相當於十進制的 ① 20.5 ② 22.75 ③ 24.25 ④ 27.05。

29. (3) 下圖邏輯閘以布林代數表示為 ①  $Y = A \quad B$  ②  $Y = A+B$  ③  $Y = \overline{AB}$  ④  $Y = \overline{A+B}$ 。



30. (4)  $F(A,B,C) = (0,2,3,4,6,7)$  化成最簡函式為  $F(A,B,C) =$  ①  $B+C$  ②  $A \bar{C} + B$  ③  $BC + \bar{C}$  ④  $B + \bar{C}$ 。

31. (2) 電腦 CPU 中的算術邏輯單元處理運算時，資料儲存的地方為何？ ① 硬碟 ② 暫存器 ③ 隨身碟 ④ 記憶體。

32. (4) 1GB 的記憶體至少需幾條位址線來定址？ ① 8 條 ② 16 條 ③ 24 條 ④ 32 條。

33. (4) 64 位元 CPU，其資料匯流排線數通常為何？① 8 ② 16 ③ 32 ④ 64。
34. (2) 電腦資料線內的資料傳輸是雙向性的，但又不能雙向同一時間傳輸，此種傳輸模式稱為①單工②半雙工③雙工④分工。
35. (3) 國際標準組織所制定的開放式系統連結架構共有幾層？① 5 ② 6 ③ 7 ④ 8。
36. (2) 下列何者為常用無線資料傳輸介面？① USB ② Bluetooth ③ RS232 ④ 1394。
37. (2) 下列何者不為常用無線通訊協定？① GPRS ② FTP ③ IEEE802.11b ④ IrDA。
38. (2) 下列各邏輯電路元件，何者消耗功率最低？① TTL ② CMOS ③ ECL ④ DTL。
39. (3) 電腦中的快取記憶體(Cache Memory)是使用下列何種記憶體組成？① DRAM ② EEPROM ③ SRAM ④ Flash。
40. (3) 下列何者是順序邏輯電路的代表性元件？① TTL 基本邏輯閘② CMOS 基本邏輯閘③正反器④三態邏輯閘。